

Modèle CCYC : ©DNE

Nom de famille (naissance) :
(Suivi s'il y a lieu, du nom d'usage)

Prénom(s) :

N° candidat :

N° d'inscription :



Né(e) le :

(Les numéros figurent sur la convocation.)

1.1

ÉVALUATION COMMUNE

CLASSE : Première

VOIE : Générale Technologique Toutes voies (LV)

ENSEIGNEMENT : spécialité Numérique et Sciences Informatiques (NSI)

DURÉE DE L'ÉPREUVE : 02 h 00

Niveaux visés (LV) : LVA LVB

Axes de programme :

CALCULATRICE AUTORISÉE : Oui Non

DICTIONNAIRE AUTORISÉ : Oui Non

Ce sujet contient des parties à rendre par le candidat avec sa copie. De ce fait, il ne peut être dupliqué et doit être imprimé pour chaque candidat afin d'assurer ensuite sa bonne numérisation.

Ce sujet intègre des éléments en couleur. S'il est choisi par l'équipe pédagogique, il est nécessaire que chaque élève dispose d'une impression en couleur.

Ce sujet contient des pièces jointes de type audio ou vidéo qu'il faudra télécharger et jouer le jour de l'épreuve.

Nombre total de pages : 16

L'épreuve consiste en 42 questions, rangées en 7 thèmes.

Pour chaque question, le candidat gagne 3 points s'il choisit la bonne réponse, perd 1 point s'il choisit une réponse fautive. S'il ne répond pas ou choisit plusieurs réponses, il ne gagne ni ne perd aucun point.

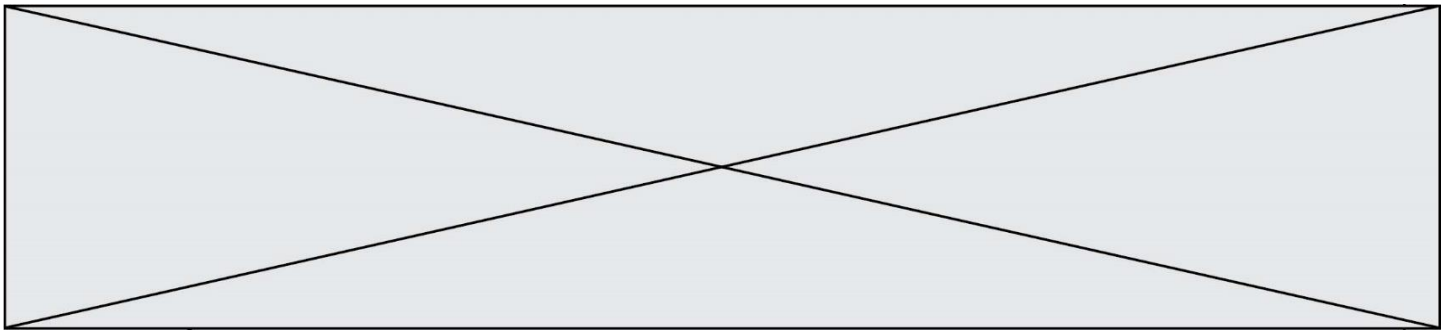
Le total sur chacun des 7 thèmes est ramené à 0 s'il est négatif.

La note finale s'obtient en divisant le total des points par 6,3 et en arrondissant à l'entier supérieur.

Le candidat indique ses réponses aux questions en pages 2 et 3.

Seules les pages 1 à 4 sont rendues par le candidat à la fin de l'épreuve, pour être numérisées.

Les questions figurent sur les pages suivantes.

**Thème A : types de base**

Réponse à la question 1 A B C D
Réponse à la question 2 A B C D
Réponse à la question 3 A B C D
Réponse à la question 4 A B C D
Réponse à la question 5 A B C D
Réponse à la question 6 A B C D

Thème B : types construits

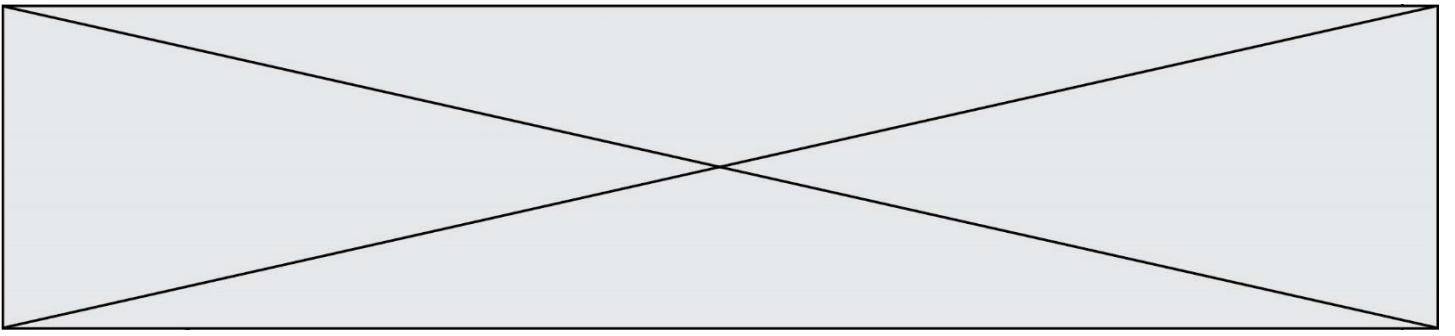
Réponse à la question 1 A B C D
Réponse à la question 2 A B C D
Réponse à la question 3 A B C D
Réponse à la question 4 A B C D
Réponse à la question 5 A B C D
Réponse à la question 6 A B C D

Thème C : traitement de données en tables

Réponse à la question 1 A B C D
Réponse à la question 2 A B C D
Réponse à la question 3 A B C D
Réponse à la question 4 A B C D
Réponse à la question 5 A B C D
Réponse à la question 6 A B C D

Thème D : interactions entre l'homme et la machine sur le Web

Réponse à la question 1 A B C D
Réponse à la question 2 A B C D
Réponse à la question 3 A B C D
Réponse à la question 4 A B C D
Réponse à la question 5 A B C D
Réponse à la question 6 A B C D





Question A.6

Quelle est l'écriture décimale de l'entier qui s'écrit 1010 en binaire ?

Réponses

- A 5
- B 10
- C 20
- D 22

Thème B : types construits

Question B.1

On définit $L = [2,3,5,7,-4]$.

En demandant la valeur de $L[5]$, qu'obtient-on ?

Réponses

- A -4
- B 2
- C 3
- D une erreur

Question B.2

Pour gérer certaines données EXIF de photographies, on a utilisé le code suivant pour stocker dans une liste L de dictionnaires quelques données :

```
L = []
L.append({'marque': 'Canon', 'modele': 'EOS 7D', 'focale': '19mm', 'flash': False})
L.append({'marque': 'Nikon', 'modele': 'CoolPix A1000', 'focale': '19mm', 'flash': True})
L.append({'marque': 'Sony', 'modele': 'HK 350', 'focale': '24mm', 'flash': False})
L.append({'marque': 'Sony', 'modele': 'HK 350', 'focale': '19mm', 'flash': True})
# .....
# et ainsi de suite, d'autres informations ont été ajoutées
# .....
```

On veut extraire de ces informations la liste Z des photographies obtenues avec un Canon ou un Nikon et une distance focale de 19 mm.

Quelle instruction permet de réaliser cette extraction ?

Réponses

- A $Z = [p \text{ for } p \text{ in } L \text{ if } (p['\text{marque}'] == '\text{Canon}' \text{ or } p['\text{focale}] == '\text{19mm}') \text{ and } (p['\text{marque}'] == '\text{Nikon}' \text{ or } p['\text{focale}] == '\text{19mm}')]$
- B $Z = [p \text{ for } p \text{ in } L \text{ if } (p['\text{marque}'] == '\text{Canon}' \text{ and } p['\text{focale}] == '\text{19mm}') \text{ and } (p['\text{marque}'] == '\text{Nikon}' \text{ and } p['\text{focale}] == '\text{19mm}')]$
- C $Z = [p \text{ for } p \text{ in } L \text{ if } (p['\text{marque}'] == '\text{Canon}' \text{ or } p['\text{focale}] == '\text{19mm}') \text{ or } (p['\text{marque}'] == '\text{Nikon}' \text{ or } p['\text{focale}] == '\text{19mm}')]$
- D $Z = [p \text{ for } p \text{ in } L \text{ if } (p['\text{marque}'] == '\text{Canon}' \text{ and } p['\text{focale}] == '\text{19mm}') \text{ or } (p['\text{marque}'] == '\text{Nikon}' \text{ and } p['\text{focale}] == '\text{19mm}')]$

Thème C : traitement de données en tables

Question C.1

On définit :

```
contacts = { 'Toto': 'toto@nsi.fr', 'Chloé': 'chloe@nsi.com',  
            'Paul': 'paul@nsi.net', 'Clémence': 'clemence@nsi.org' }
```

Parmi les propositions suivantes, laquelle est exacte ?

Réponses

- A 'Chloé' est une **valeur** de la variable contacts
- B 'Chloé' est une **clé** de la variable contacts
- C 'Chloé' est un **attribut** de la variable contacts
- D 'Chloé' est un **champ** de la variable contacts

Question C.2

On a extrait les deux premières lignes de différents fichiers.

Déterminer celui qui est un authentique fichier CSV :

Réponses

- A `Nom,Pays, Temps`
`Camille Muffat,France,241.45`
- B `Nom Pays Temps`
`Camille Muffat France 241.45`
- C `[`
`{ "Nom": "Camille Muffat", "Pays": "France", "Temps": 241.45},`
- D `[`
`{ Nom: "Camille Muffat", Pays: "France", Temps: 241.45},`

Question C.3

On dispose du fichier « info.csv » donné ci-dessous :

```
nom, prenom, naissance, deces  
lovelace, ada, 1815, 1852  
von neumann, john, 1903, 1957  
turing, alan, 1912, 1954  
mccarthy, john, 1927, 2011  
floyd, robert, 1936, 2001
```

Le programme ci-dessous nous permet de créer un tableau à partir de ce fichier.

```
file = open("info.csv", "r")  
firstLine = file.readline() # chargement de la ligne d'entête  
tableau = [line.split(',') for line in file] # chargement des données
```

Les index des lignes de ce tableau vont...

Réponses

- A de 0 à 3
- B de 1 à 4
- C de 0 à 4
- D de 0 à 5



Thème D : interactions entre l'homme et la machine sur le Web

Question D.1

Les pages HTML sont affichées par ...

Réponses

- A le compilateur
- B le serveur
- C l'interpréteur
- D le navigateur Web

Question D.2

Dans un fichier HTML nommé reservation.html, on a défini au sein d'une balise `<script>` la fonction `confirmer`. Ce fichier contient aussi la ligne suivante :

```
<button onclick="confirmer();">Annuler la réservation</button>
```

On affiche cette page dans un navigateur Web (pour lequel JavaScript est activé).

En cliquant sur le bouton « Annuler la réservation » :

Réponses

- A Le navigateur va nécessairement générer une requête HTTP à destination du serveur pour confirmer cette action.
- B Le navigateur ne peut pas générer une requête HTTP à destination du serveur pour confirmer cette action.
- C Le navigateur va nécessairement déclencher un appel à la fonction `confirmer`.
- D Le navigateur ne peut pas déclencher un appel à la fonction `confirmer`.

Question D.3

Dans quels langages les balises `` et `<form>` sont-elles utilisées ?

Réponses

- A Python
- B HTML
- C Javascript
- D PHP

Question D.4

Quel est le protocole utilisé pour accéder à la page <https://www.domaine.gouv.fr/qcm.php?nom=Martin> ?

Réponses

- A HTTPS
- B HTTP
- C WWW
- D FTP

Question D.5

Quelle méthode est utilisée via une requête HTTP pour envoyer une image via un formulaire HTML ?

Réponses

- A HEAD
- B PUT
- C POST
- D GET

Modèle CCYC : ©DNE

Nom de famille (naissance) :

(Suivi s'il y a lieu, du nom d'usage)

Prénom(s) :

N° candidat :

N° d'inscription :



Liberté • Égalité • Fraternité
RÉPUBLIQUE FRANÇAISE

Né(e) le :

(Les numéros figurent sur la convocation.)

1.1

Question D.6

Les pages HTML sont affichées par ...

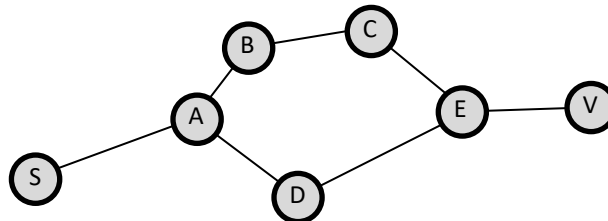
Réponses

- A le compilateur
- B le serveur
- C l'interpréteur
- D le navigateur Web

Thème E : architectures matérielles et systèmes d'exploitation

Question E.1

Vivien télécharge un logiciel à partir d'un site commercial. Le transfert par Internet du logiciel a débuté entre le serveur (machine S) et son domicile (machine V). On a représenté des routeurs A, B, C, D et E et les liens existants. Les paquets IP suivent le chemin passant par les routeurs A, B, C et E.



Durant un orage, la foudre frappe et détruit le serveur C par lequel transitent les paquets correspondant au fichier que télécharge Vivien. Que se passe-t-il ?

Réponses

- A la liaison étant coupée, le serveur ne sera plus accessible
- B le téléchargement n'est pas interrompu car les paquets peuvent transiter par le routeur D
- C le téléchargement est interrompu, Vivien doit redémarrer une nouvelle connexion à partir de zéro
- D le téléchargement se poursuit mais des données seront perdues

Question E.2

Sous Unix, que fait la commande suivante :

```
ls -a /home/pi >> toto.txt
```

Réponses

- A elle liste uniquement les répertoires cachés du répertoire /home/pi
- B elle liste tous les fichiers du répertoire /home/pi et enregistre le résultat dans un fichier toto.txt
- C elle liste tous les fichiers des répertoires de /home/pi et de toto.txt
- D elle liste tous les fichiers du répertoire courant et enregistre le résultat dans un fichier /home/pi/toto.txt

**Question E.3**

Laquelle des mémoires suivantes est volatile ?

Réponses

- A RAM
- B disque dur
- C ROM
- D clef USB

Question E.4

Quel est le rôle de la commande shell ls ?

Réponses

- A basculer en mode administrateur
- B lister le contenu du répertoire courant
- C donner un accès complet à un fichier
- D effacer le contenu du répertoire courant

Question E.5

Que peut-on dire du système de fichier, suite à l'exécution des commandes suivantes ?

```
% cd
% ls
Documents Images Videos help.txt tutorial.txt script.py
% mv *.txt Documents
```

Réponses

- A L'utilisateur Documents a pris possession des fichiers help.txt et tutorial.txt
- B Le répertoire /Documents contient maintenant les fichiers help.txt et tutorial.txt
- C Le répertoire Documents du répertoire de l'utilisateur contient maintenant les fichiers help.txt et tutorial.txt
- D script.py a été exécuté et a déplacé les fichiers textes

Question E.6

Dans une machine sous Linux, dans le répertoire Documents se trouvent un répertoire Final ainsi qu'un répertoire Initial contenant deux fichiers fichier1.txt et fichier2.txt.

En étant dans le répertoire Initial, quel est l'effet de la commande `cp * ../Final` ?

Réponses

- A se placer dans le répertoire Final
- B déplacer dans le répertoire Initial les fichiers du répertoire Final
- C copier dans le répertoire Initial les fichiers du répertoire Final
- D copier dans le répertoire Final les fichiers du répertoire Initial

Modèle CCYC : ©DNE

Nom de famille (naissance) :


(Suivi s'il y a lieu, du nom d'usage)

Prénom(s) :

N° candidat : N° d'inscription :

(Les numéros figurent sur la convocation.)

Né(e) le : / /



RÉPUBLIQUE FRANÇAISE

1.1

Thème F : langages et programmation

Question F.1

On considère l'instruction suivante :

```
resultat = [0] * 7
```

Que contient la variable resultat après son exécution ?

Réponses

- A 0
- B [0]
- C [[0], [0], [0], [0], [0], [0], [0]]
- D [0, 0, 0, 0, 0, 0, 0]

Question F.2

On exécute le script Python suivant :

```
def cube(a):
    a = a*a*a
    return a
a = 2
b = cube(a)
```

Que vaut le couple (a,b) à la fin de l'exécution ?

Réponses

- A (8, 8)
- B (8, 2)
- C (2, 2)
- D (2, 8)

Question F.3

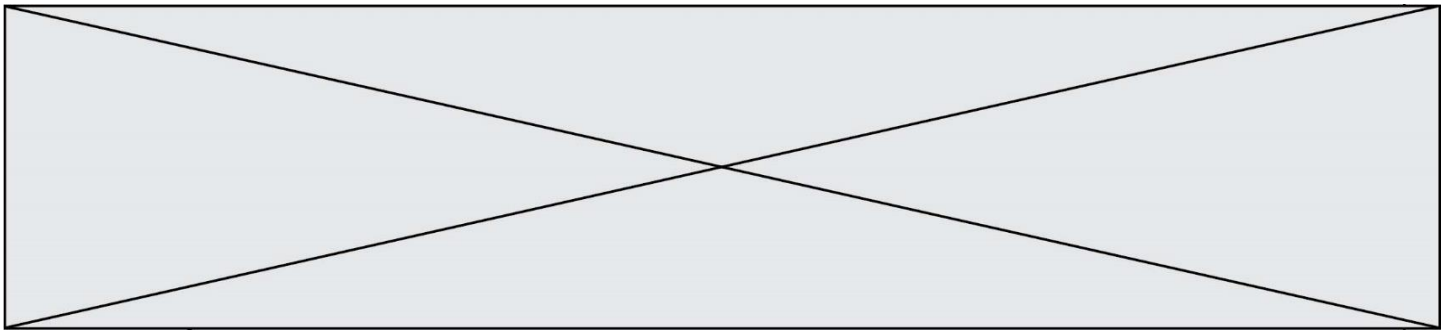
On définit la fonction :

```
def f(a,b):
    assert b!=0,'le deuxième argument est nul'
    result = a/b
    return result
```

Qu'obtient-on en exécutant la commande $r = f(4,0)$?

Réponses

- A une erreur ZeroDivisionError: division by zero et l'arrêt de l'exécution
- B une erreur NameError: name 'b' is not defined et l'arrêt de l'exécution
- C une erreur AssertionError: le deuxième argument est nul et la variable r prend la valeur 0
- D une erreur AssertionError: le deuxième argument est nul et l'arrêt de l'exécution

**Question F.4**

On définit la fonction suivante :

```
def f(x,y,z):  
    if x+y == z:  
        return True  
    else:  
        return False
```

Quel type de paramètres est-il déconseillé d'utiliser avec cette fonction ?

Réponses

- A les entiers
- B les chaînes de caractères
- C les flottants
- D les tableaux

Question F.5

On exécute le script suivant :

```
resultat = [0] * 7
```

Que contient la variable resultat après son exécution ?

Réponses

- A 0
- B [0]
- C [[0], [0], [0], [0], [0], [0], [0]]
- D [0, 0, 0, 0, 0, 0, 0]

Question F.6

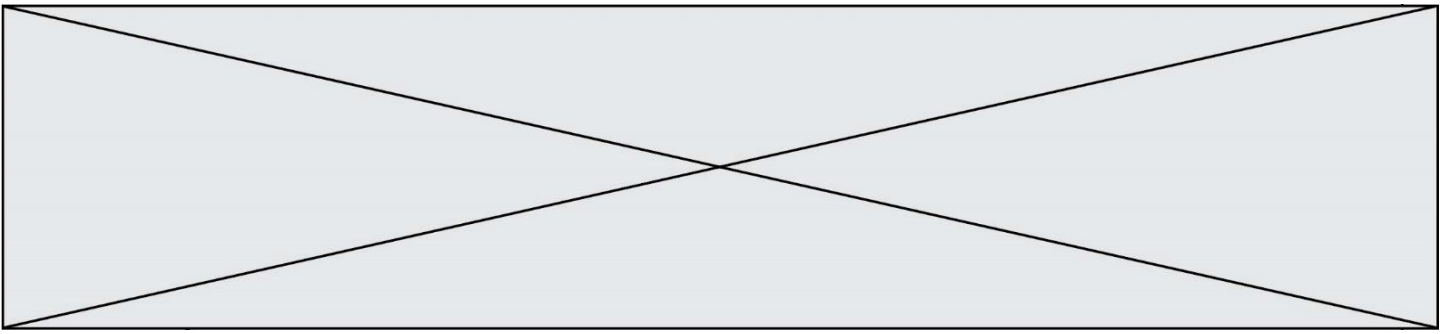
On définit la fonction suivante :

```
def rey(n):  
    i = 0  
    while i <= n:  
        i = 2*i  
    return i
```

Quelle valeur renvoie l'appel rey(100) ?

Réponses

- A 0
- B 64
- C 100
- D 128



Question G.4

Quelle est la valeur de element à la fin de l'exécution du code suivant :

```
L = [1,2,3,4,1,2,3,4,0,2]
```

```
element = L[0]
for k in L:
    if k > element:
        element = k
```

Réponses

- A 0
- B 1
- C 4
- D 10

Question G.5

Quelle est la complexité du tri par sélection ?

Réponses

- A inconnue
- B linéaire
- C quadratique
- D exponentielle

Question G.6

Qu'effectue-t-on en lançant la commande suivante dans un terminal Linux :

```
mv /etc/professeur/fichier.conf /home/nsi/fichier.conf
```

Réponses

- A un déplacement de fichier
- B une copie de fichier
- C un renommage de fichier
- D un changement de répertoire