



Thème A : types de base

Réponse à la question 1	A <input type="checkbox"/>	B <input type="checkbox"/>	C <input type="checkbox"/>	D <input type="checkbox"/>
Réponse à la question 2	A <input type="checkbox"/>	B <input type="checkbox"/>	C <input type="checkbox"/>	D <input type="checkbox"/>
Réponse à la question 3	A <input type="checkbox"/>	B <input type="checkbox"/>	C <input type="checkbox"/>	D <input type="checkbox"/>
Réponse à la question 4	A <input type="checkbox"/>	B <input type="checkbox"/>	C <input type="checkbox"/>	D <input type="checkbox"/>
Réponse à la question 5	A <input type="checkbox"/>	B <input type="checkbox"/>	C <input type="checkbox"/>	D <input type="checkbox"/>
Réponse à la question 6	A <input type="checkbox"/>	B <input type="checkbox"/>	C <input type="checkbox"/>	D <input type="checkbox"/>

Thème B : types construits

Réponse à la question 1	A <input type="checkbox"/>	B <input type="checkbox"/>	C <input type="checkbox"/>	D <input type="checkbox"/>
Réponse à la question 2	A <input type="checkbox"/>	B <input type="checkbox"/>	C <input type="checkbox"/>	D <input type="checkbox"/>
Réponse à la question 3	A <input type="checkbox"/>	B <input type="checkbox"/>	C <input type="checkbox"/>	D <input type="checkbox"/>
Réponse à la question 4	A <input type="checkbox"/>	B <input type="checkbox"/>	C <input type="checkbox"/>	D <input type="checkbox"/>
Réponse à la question 5	A <input type="checkbox"/>	B <input type="checkbox"/>	C <input type="checkbox"/>	D <input type="checkbox"/>
Réponse à la question 6	A <input type="checkbox"/>	B <input type="checkbox"/>	C <input type="checkbox"/>	D <input type="checkbox"/>

Thème C : traitement de données en tables

Réponse à la question 1	A <input type="checkbox"/>	B <input type="checkbox"/>	C <input type="checkbox"/>	D <input type="checkbox"/>
Réponse à la question 2	A <input type="checkbox"/>	B <input type="checkbox"/>	C <input type="checkbox"/>	D <input type="checkbox"/>
Réponse à la question 3	A <input type="checkbox"/>	B <input type="checkbox"/>	C <input type="checkbox"/>	D <input type="checkbox"/>
Réponse à la question 4	A <input type="checkbox"/>	B <input type="checkbox"/>	C <input type="checkbox"/>	D <input type="checkbox"/>
Réponse à la question 5	A <input type="checkbox"/>	B <input type="checkbox"/>	C <input type="checkbox"/>	D <input type="checkbox"/>
Réponse à la question 6	A <input type="checkbox"/>	B <input type="checkbox"/>	C <input type="checkbox"/>	D <input type="checkbox"/>

Thème D : interactions entre l'homme et la machine sur le Web

Réponse à la question 1	A <input type="checkbox"/>	B <input type="checkbox"/>	C <input type="checkbox"/>	D <input type="checkbox"/>
Réponse à la question 2	A <input type="checkbox"/>	B <input type="checkbox"/>	C <input type="checkbox"/>	D <input type="checkbox"/>
Réponse à la question 3	A <input type="checkbox"/>	B <input type="checkbox"/>	C <input type="checkbox"/>	D <input type="checkbox"/>
Réponse à la question 4	A <input type="checkbox"/>	B <input type="checkbox"/>	C <input type="checkbox"/>	D <input type="checkbox"/>
Réponse à la question 5	A <input type="checkbox"/>	B <input type="checkbox"/>	C <input type="checkbox"/>	D <input type="checkbox"/>
Réponse à la question 6	A <input type="checkbox"/>	B <input type="checkbox"/>	C <input type="checkbox"/>	D <input type="checkbox"/>



Modèle CCYC : ©DNE

Nom de famille (naissance) :


(Suivi s'il y a lieu, du nom d'usage)

Prénom(s) :

N° candidat : N° d'inscription :

(Les numéros figurent sur la convocation.)

Né(e) le : / /



1.1

Thème A : types de base

Question A.1

Un nombre entier signé est codé en complément à deux sur 8 bits par : 0111 0101.
Que peut-on dire ?

Réponses

- A c'est un nombre positif
- B c'est un nombre négatif
- C c'est un nombre pair
- D 7 bits auraient suffi à représenter cet entier signé en complément à deux

Question A.2

On souhaite coder un entier relatif sur deux octets.
Quels sont le plus petit et le plus grand entier que l'on peut coder de la sorte ?

Réponses

- A -32 768 et 32 767
- B 0 et 65 535
- C -8 et 7
- D -256 et 255

Question A.3

Combien de valeurs entières positives ou nulles un octet peut-il représenter ?

Réponses

- A 2
- B 8
- C 16
- D 256

Question A.4

Choisir une expression booléenne pour la variable S qui satisfait la table de vérité suivante.

A	B	S
0	0	1
0	1	0
1	0	1
1	1	1

Réponses

- A A ou (non B)
- B (non A) ou B
- C (non A) ou (non B)
- D non (A ou B)



Question A.5

Soit n l'entier positif dont l'écriture binaire est 10001. Quelle est l'écriture binaire de l'entier $2n$?

Réponses

- A 20002
- B 100010
- C 010001
- D 1000110001

Question A.6

Quelle est la plage des valeurs entières (positifs ou négatifs) que l'on peut coder sur un octet (8 bits) en complément à 2 ?

Réponses

- A -127 à 128
- B -128 à 127
- C -255 à 128
- D -256 à 127

Modèle CCYC : ©DNE

Nom de famille (naissance) :

(Suivi s'il y a lieu, du nom d'usage)

Prénom(s) :

N° candidat :

N° d'inscription :



Liberté • Égalité • Fraternité
RÉPUBLIQUE FRANÇAISE

Né(e) le :

(Les numéros figurent sur la convocation.)

1.1

Thème B : types construits

Question B.1

Soient n et p deux entiers au moins égaux à 2. On définit une liste de listes t par le code suivant :

```
# n et p sont initialisés dans les lignes précédentes
```

```
t = [ [ 0 for j in range(p) ] for i in range(n) ]
```

```
for k in range(n*p):  
    t[k%n][k%p] = k
```

Une et une seule des affirmations suivantes est **fausse**. Laquelle ?

Réponses

- A La liste t contient des entiers k tels que $0 \leq k < n \times p$.
- B Pour tout j tel que $0 \leq j < n - 1$, $t[j][0]$ est un multiple de p .
- C La liste $t[0]$ contient des entiers qui sont tous multiples de n .
- D Pour tout j tel que $0 \leq j < n - 1$, $t[0][j]$ est un multiple de p .

Question B.2

On considère la liste de listes suivante :

```
tictactoe = [ ['X', 'O', 'O'],  
              ['O', 'O', 'O'],  
              ['O', 'O', 'X'] ]
```

Quelle instruction permet d'obtenir une diagonale de 'X' ?

Réponses

- A `tictactoe[3] = 'X'`
- B `tictactoe[4] = 'X'`
- C `tictactoe[1][1] = 'X'`
- D `tictactoe[2][2] = 'X'`

Question B.3

Après l'affectation suivante :

```
alphabet = [ 'A', 'B', 'C', 'D', 'E', 'F', 'G', 'H', 'I', 'J', 'K', 'L',  
             'M',  
             'N', 'O', 'P', 'Q', 'R', 'S', 'T', 'U', 'V', 'W', 'X', 'Y',  
             'Z' ]
```

quelle est l'expression qui permet d'accéder à la lettre E ?

Réponses

- A `alphabet.E`
- B `alphabet['E']`
- C `alphabet[4]`
- D `alphabet[5]`

**Question B.4**

On considère le code suivant :

```
t = [1, 6, 8, 3, 21]
u = [x for x in t if x > 3]
```

Que vaut u à la fin de son exécution ?

Réponses

- A [1, 6, 8, 21]
- B [6, 8, 3, 21]
- C [6, 8, 21]
- D [1, 3, 6, 21]

Question B.5

On considère le code suivant :

```
def feed(t):
    for i in range(len(t)):
        t[i] = 0
    return t
```

Que renvoie `feed([12, 24, 32])` ?

Réponses

- A [120, 240, 320]
- B [0, 0, 0]
- C []
- D [0]

Question B.6

On considère le dictionnaire

```
D = {1: 3, 2: 4, 3: 5, 4: 2, 5: 1}
```

Quelle est la valeur de `D[D[D[2]]]` ?

Réponses

- A 2
- B 3
- C 4
- D 5



Question C.4

Laquelle de ces affirmations est vraie ?

Réponses

- A on ne peut accéder au contenu d'un fichier CSV que par l'intermédiaire d'un programme Python
- B CSV est un format de chiffrement des données
- C le format CSV a été conçu pour assurer la confidentialité d'une partie du code d'un programme
- D les fichiers CSV sont composés de données séparées par des caractères comme des virgules

Question C.5

On exécute le code suivant :

```
def maxi(t):  
    m = t[0]  
    for x in t:  
        if x[1] >= m[1]:  
            m = x  
    return m
```

```
L = [ ('Alice', 17), ('Barnabé', 17),  
      ('Casimir', 17), ('Doriane', 17),  
      ('Emilien', 14), ('Fabienne', 16) ]
```

Quelle est alors la valeur de `maxi(L)` ?

Réponses

- A ('Alice',17)
- B ('Doriane',17)
- C ('Fabienne',17)
- D ('Emilien',14)

Question C.6

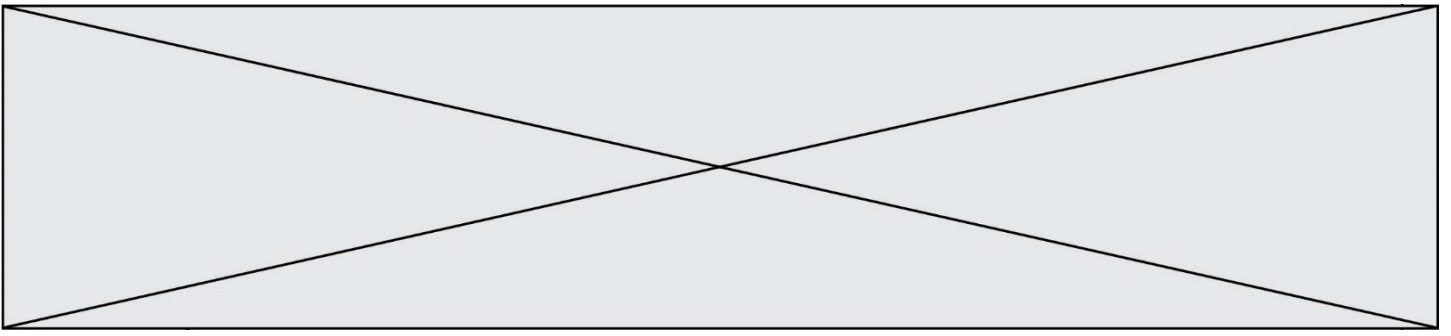
On a défini :

```
mendeleiev = [[ 'H', '.', '.', '.', '.', '.', '.', '.', '.', '.', 'He'],  
              [ 'Li', 'Be', 'B', 'C', 'N', 'O', 'F', 'Ne'],  
              [ 'Na', 'Mg', 'Al', 'Si', 'P', 'S', 'Cl', 'Ar'],  
              ..... ]
```

Une erreur s'est glissée dans le tableau, car le symbole du Fluor est F et non Fl. Quelle instruction permet de rectifier ce tableau ?

Réponses

- A `mendeleiev.append('F')`
- B `mendeleiev[1][6] = 'F'`
- C `mendeleiev[6][1] = 'F'`
- D `mendeleiev[-1][-1] = 'F'`



Question D.6

Les pages HTML sont affichées par ...

Réponses

- A le compilateur
- B le serveur
- C l'interpréteur
- D le navigateur Web

Modèle CCYC : ©DNE

Nom de famille (naissance) :

(Suivi s'il y a lieu, du nom d'usage)

Prénom(s) :

N° candidat : N° d'inscription :

(Les numéros figurent sur la convocation.)

Né(e) le : / /



RÉPUBLIQUE FRANÇAISE

1.1

Thème E : architectures matérielles et systèmes d'exploitation

Question E.1

Parmi les éléments suivants, lequel n'est pas un capteur ?

Réponses

- A un haut-parleur
- B une caméra
- C un écran tactile
- D un microphone

Question E.2

Pour analyser les réponses saisies par l'utilisateur dans un formulaire d'une page Web personnelle, hébergée chez un fournisseur d'accès à internet, on dispose du code suivant :

```
<?php if ($_POST['choix']=='choix4')
    {echo "Bravo, ";}
    else
    {echo "Non, vous vous trompez !";}
?>
```

Où s'exécutera ce code ?

Réponses

- A dans le premier routeur permettant d'accéder au serveur
- B dans le dernier routeur permettant d'accéder au serveur
- C dans le serveur qui héberge la page personnelle
- D dans la machine de l'utilisateur qui consulte la page personnelle

Question E.3

Quelles sont les quatre parties distinctes de l'architecture de Von Neumann ?

Réponses

- A L'unité logique, l'unité de contrôle, la mémoire et les dispositifs d'entrée-sortie
- B L'écran, le clavier, le disque dur et le micro-processeur
- C Le disque dur, le micro-processeur, la carte-mère et la carte graphique
- D La mémoire des programmes, la mémoire des données, les entrées-sorties et l'unité logique

Question E.4

Sur un ordinateur, où est stocké de manière permanente le système d'exploitation ?

Réponses

- A dans la mémoire RAM
- B sur le bus de donnée
- C sur le disque dur ou le disque SSD
- D dans le Cloud



Question E.5

Comment s'appelle l'ensemble des règles qui régissent les échanges sur Internet ?

Réponses

- A les couches
- B le wifi
- C les protocoles
- D les commutateurs

Question E.6

Quel est le principe de l'encapsulation des données dans un réseau informatique ?

Réponses

- A Cacher les données afin que l'on ne puisse pas les lire
- B Mettre les données les unes à la suite des autres
- C Chiffrer les données afin que l'on ne puisse pas les lire
- D Inclure les données d'un protocole dans un autre protocole

**Question F.4**

On définit deux fonctions :

```
def f(x):  
    y = 2*x + 1  
    return y
```

```
def calcul(x):  
    y = x - 1  
    return f(y)
```

Quelle est la valeur renvoyée par l'appel `calcul(5)` ?

Réponses

- A 4
- B 9
- C 11
- D 19

Question F.5

On exécute le script suivant.

```
a,b = 10,3  
if a < 10:  
    a,b = a+2,b+a
```

Quelle est la valeur de `b` à la fin de son exécution ?

Réponses

- A 3
- B 12
- C 13
- D 15

Question F.6

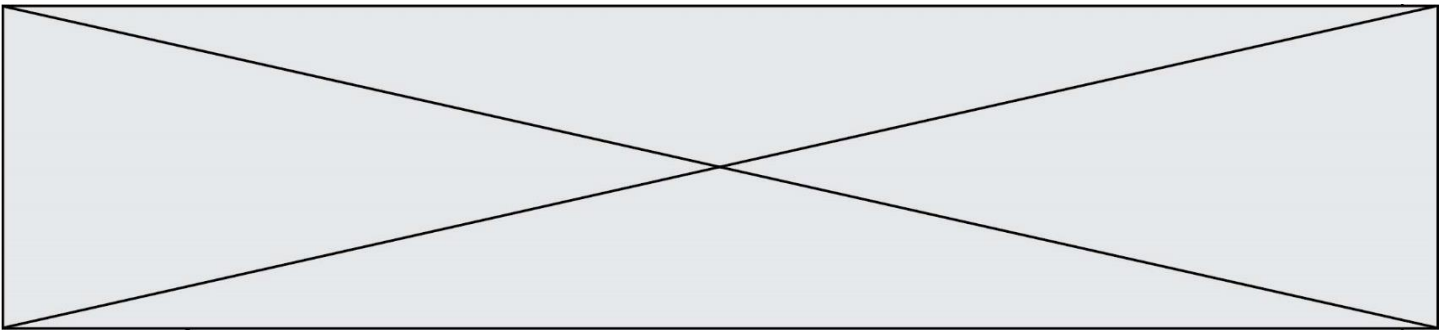
On a défini une liste `L` de nombres entiers.

Quelle est la valeur de la variable `m` à la fin de l'exécution du script suivant ?

```
m = L[0]  
for j in range(len(L)):  
    if m < L[j]:  
        m = L[j]
```

Réponses

- A la moyenne de la liste `L`
- B le minimum de la liste `L`
- C le maximum de la liste `L`
- D la longueur de la liste `L`



Question G.4

On définit la fonction suivante :

```
def traitement(liste) :  
    m = liste[0]  
    for i in range (len(liste)) :  
        if liste[i] > m:  
            m = liste[i]  
    return m
```

Que vaut `traitement([-2,5,6,-10,35])` ?

Réponses

- A None
- B -10
- C -6
- D 35

Question G.5

Un algorithme de tri d'une liste d'entiers est implémenté de la façon suivante :

```
def trier(L) :  
    for i in range(len(L)):  
        indice_min = i  
        for j in range(i+1, len(L)):  
            if L[j] < L[indice_min] :  
                indice_min = j  
            L[i], L[indice_min] = L[indice_min], L[i]  
            # assertion vraie à cet endroit  
    return L
```

Laquelle des assertions suivantes reste vraie à chaque itération de la boucle, à l'endroit indiqué ci-dessus ?

Réponses

- A la sous-liste `L[0:i+1]` contient les i plus grandes valeurs de `L` triées par ordre décroissant
- B la sous-liste `L[0:i+1]` contient les i plus grandes valeurs de `L` triées par ordre croissant
- C la sous-liste `L[0:i+1]` contient les i plus petites valeurs de `L` triées par ordre décroissant
- D la sous-liste `L[0:i+1]` contient les i plus petites valeurs de `L` triées par ordre croissant

