

Modèle CCYC : ©DNE

Nom de famille (naissance) :

(Suivi s'il y a lieu, du nom d'usage)

Prénom(s) :

N° candidat : N° d'inscription :

(Les numéros figurent sur la convocation.)

Né(e) le : / /



1.1

ÉVALUATION COMMUNE

CLASSE : Première

VOIE : Générale Technologique Toutes voies (LV)

ENSEIGNEMENT : spécialité Numérique et Sciences Informatiques (NSI)

DURÉE DE L'ÉPREUVE : 02 h 00

Niveaux visés (LV) : LVA LVB

Axes de programme :

CALCULATRICE AUTORISÉE : Oui Non

DICTIONNAIRE AUTORISÉ : Oui Non

Ce sujet contient des parties à rendre par le candidat avec sa copie. De ce fait, il ne peut être dupliqué et doit être imprimé pour chaque candidat afin d'assurer ensuite sa bonne numérisation.

Ce sujet intègre des éléments en couleur. S'il est choisi par l'équipe pédagogique, il est nécessaire que chaque élève dispose d'une impression en couleur.

Ce sujet contient des pièces jointes de type audio ou vidéo qu'il faudra télécharger et jouer le jour de l'épreuve.

Nombre total de pages : 19

L'épreuve consiste en 42 questions, rangées en 7 thèmes.

Pour chaque question, le candidat gagne 3 points s'il choisit la bonne réponse, perd 1 point s'il choisit une réponse fautive. S'il ne répond pas ou choisit plusieurs réponses, il ne gagne ni ne perd aucun point.

Le total sur chacun des 7 thèmes est ramené à 0 s'il est négatif.

La note finale s'obtient en divisant le total des points par 6,3 et en arrondissant à l'entier supérieur.

Le candidat indique ses réponses aux questions en pages 2 et 3.

Seules les pages 1 à 4 sont rendues par le candidat à la fin de l'épreuve, pour être numérisées.

Les questions figurent sur les pages suivantes.



Thème A : types de base

Réponse à la question 1	A <input type="checkbox"/>	B <input type="checkbox"/>	C <input type="checkbox"/>	D <input type="checkbox"/>
Réponse à la question 2	A <input type="checkbox"/>	B <input type="checkbox"/>	C <input type="checkbox"/>	D <input type="checkbox"/>
Réponse à la question 3	A <input type="checkbox"/>	B <input type="checkbox"/>	C <input type="checkbox"/>	D <input type="checkbox"/>
Réponse à la question 4	A <input type="checkbox"/>	B <input type="checkbox"/>	C <input type="checkbox"/>	D <input type="checkbox"/>
Réponse à la question 5	A <input type="checkbox"/>	B <input type="checkbox"/>	C <input type="checkbox"/>	D <input type="checkbox"/>
Réponse à la question 6	A <input type="checkbox"/>	B <input type="checkbox"/>	C <input type="checkbox"/>	D <input type="checkbox"/>

Thème B : types construits

Réponse à la question 1	A <input type="checkbox"/>	B <input type="checkbox"/>	C <input type="checkbox"/>	D <input type="checkbox"/>
Réponse à la question 2	A <input type="checkbox"/>	B <input type="checkbox"/>	C <input type="checkbox"/>	D <input type="checkbox"/>
Réponse à la question 3	A <input type="checkbox"/>	B <input type="checkbox"/>	C <input type="checkbox"/>	D <input type="checkbox"/>
Réponse à la question 4	A <input type="checkbox"/>	B <input type="checkbox"/>	C <input type="checkbox"/>	D <input type="checkbox"/>
Réponse à la question 5	A <input type="checkbox"/>	B <input type="checkbox"/>	C <input type="checkbox"/>	D <input type="checkbox"/>
Réponse à la question 6	A <input type="checkbox"/>	B <input type="checkbox"/>	C <input type="checkbox"/>	D <input type="checkbox"/>

Thème C : traitement de données en tables

Réponse à la question 1	A <input type="checkbox"/>	B <input type="checkbox"/>	C <input type="checkbox"/>	D <input type="checkbox"/>
Réponse à la question 2	A <input type="checkbox"/>	B <input type="checkbox"/>	C <input type="checkbox"/>	D <input type="checkbox"/>
Réponse à la question 3	A <input type="checkbox"/>	B <input type="checkbox"/>	C <input type="checkbox"/>	D <input type="checkbox"/>
Réponse à la question 4	A <input type="checkbox"/>	B <input type="checkbox"/>	C <input type="checkbox"/>	D <input type="checkbox"/>
Réponse à la question 5	A <input type="checkbox"/>	B <input type="checkbox"/>	C <input type="checkbox"/>	D <input type="checkbox"/>
Réponse à la question 6	A <input type="checkbox"/>	B <input type="checkbox"/>	C <input type="checkbox"/>	D <input type="checkbox"/>

Thème D : interactions entre l'homme et la machine sur le Web

Réponse à la question 1	A <input type="checkbox"/>	B <input type="checkbox"/>	C <input type="checkbox"/>	D <input type="checkbox"/>
Réponse à la question 2	A <input type="checkbox"/>	B <input type="checkbox"/>	C <input type="checkbox"/>	D <input type="checkbox"/>
Réponse à la question 3	A <input type="checkbox"/>	B <input type="checkbox"/>	C <input type="checkbox"/>	D <input type="checkbox"/>
Réponse à la question 4	A <input type="checkbox"/>	B <input type="checkbox"/>	C <input type="checkbox"/>	D <input type="checkbox"/>
Réponse à la question 5	A <input type="checkbox"/>	B <input type="checkbox"/>	C <input type="checkbox"/>	D <input type="checkbox"/>
Réponse à la question 6	A <input type="checkbox"/>	B <input type="checkbox"/>	C <input type="checkbox"/>	D <input type="checkbox"/>

Modèle CCYC : ©DNE

Nom de famille (naissance) :


(Suivi s'il y a lieu, du nom d'usage)

Prénom(s) :

N° candidat : N° d'inscription :

(Les numéros figurent sur la convocation.)

Né(e) le : / /



Liberté • Égalité • Fraternité
RÉPUBLIQUE FRANÇAISE

1.1

Thème E : architectures matérielles et systèmes d'exploitation

- Réponse à la question 1 A B C D
- Réponse à la question 2 A B C D
- Réponse à la question 3 A B C D
- Réponse à la question 4 A B C D
- Réponse à la question 5 A B C D
- Réponse à la question 6 A B C D

Thème F : langages et programmation

- Réponse à la question 1 A B C D
- Réponse à la question 2 A B C D
- Réponse à la question 3 A B C D
- Réponse à la question 4 A B C D
- Réponse à la question 5 A B C D
- Réponse à la question 6 A B C D

Thème G : algorithmique

- Réponse à la question 1 A B C D
- Réponse à la question 2 A B C D
- Réponse à la question 3 A B C D
- Réponse à la question 4 A B C D
- Réponse à la question 5 A B C D
- Réponse à la question 6 A B C D



Modèle CCYC : ©DNE

Nom de famille (naissance) :

(Suivi s'il y a lieu, du nom d'usage)

Prénom(s) :

N° candidat : **N° d'inscription** :

(Les numéros figurent sur la convocation.)

Né(e) le : / /

 RÉPUBLIQUE FRANÇAISE

1.1

Thème A : types de base

Question A.1

Combien de bits sont nécessaires pour écrire le nombre entier 16 en base 2 ?

Réponses

- A 4
- B 5
- C 6
- D 7

Question A.2

Quelle est la représentation en binaire signé en complément à 2 de l'entier -1 sur un octet ?

Réponses

- A 1000 0000
- B 1000 0001
- C 1111 1110
- D 1111 1111

Question A.3

Quel est le nombre minimal de bits nécessaire pour représenter l'entier positif 79 en binaire ?

Réponses

- A 2
- B 6
- C 7
- D 8

Question A.4

Sachant que l'expression $\text{not}(a \text{ or } b)$ a la valeur True, quelles peuvent être les valeurs des variables booléennes a et b ?

Réponses

- A True et True
- B False et True
- C True et False
- D False et False

Question A.5

Quelle est la représentation décimale de l'entier négatif codé en complément à 2 sur un octet par 1100 1011 ?

Réponses

- A -84
- B -53
- C -35



D -21

Question A.6

On veut définir une fonction `xor` qui renvoie le résultat d'un « ou exclusif » sur ses arguments.
Laquelle de ces définitions est-elle correcte ?

Réponses

- A `def xor(a,b):`
 `return (not(a) and b) or (a and b)`
- B `def xor(a,b):`
 `return (a or b) and not(a)`
- C `def xor(a,b):`
 `return (a and not(b)) or (b and not(a))`
- D `def xor(a,b):`
 `return (a or not(b)) and (b or not(a))`

Modèle CCYC : ©DNE

Nom de famille (naissance) :

(Suivi s'il y a lieu, du nom d'usage)

Prénom(s) :

N° candidat :

N° d'inscription :



Né(e) le : / /

(Les numéros figurent sur la convocation.)

1.1

Thème B : types construits

Question B.1

Quelle est la valeur de l'expression [(a,b) for a in range(3) for b in range(3) if a > b] ?

Réponses

- A [(a,b), (a,b), (a,b), (a,b), (a,b), (a,b), (a,b), (a,b), (a,b)]
- B [(0,0), (0,1), (0,2), (1,0), (1,1), (1,2), (2,0), (2,1), (2,2)]
- C [(1,0), (2,0), (2,1)]
- D [(0,0), (0,1), (0,2), (1,0), (1,1), (1,2), (1,0), (1,1), (1,2)]

Question B.2

On définit :

```
dico = {"Herve": 15, "Kevin":17, "Fatima":16}
```

qui associe nom et âge de trois élèves.

Comment accéder à l'âge de Kevin ?

Réponses

- A dico[1]
- B dico[Kevin]
- C dico["Kevin"]
- D dico("Kevin")

Question B.3

Que vaut l'expression [2*k for k in range(5)] ?

Réponses

- A [0,2,4,6,8]
- B [2,4,6,8,10]
- C [1,2,4,8,16]
- D [2,4,8,16,32]

Question B.4

Quelle est la valeur de l'expression [[n,n+2] for n in range(3)] ?

Réponses

- A [0,2,1,3,2,4]
- B [1,3,2,4,3,5]
- C [[0,2], [1,3], [2,4]]
- D [[1,3], [2,4], [3,5]]



Question B.5

On définit ainsi une liste M :

```
M = [['A', 'B', 'C', 'D'], ['E', 'F', 'G', 'H'], ['I', 'J', 'K', 'L']]
```

Que vaut l'expression `M[2][1]` ?

Réponses

- A 'G'
- B 'J'
- C 'E'
- D 'B'

Question B.6

Quelle expression Python a pour valeur la liste `[1, 3, 5, 7, 9, 11]` ?

Réponses

- A `[2*i - 1 for i in range(6)]`
- B `[2*i + 1 for i in range(6)]`
- C `[2*i + 1 for i in range(5)]`
- D `[2*i - 1 for i in range(7)]`

Modèle CCYC : ©DNE

Nom de famille (naissance) :

(Suivi s'il y a lieu, du nom d'usage)

Prénom(s) :

N° candidat : N° d'inscription :

(Les numéros figurent sur la convocation.)

Né(e) le : / /

Liberté • Égalité • Fraternité
RÉPUBLIQUE FRANÇAISE

1.1

Thème C : traitement de données en tables

Question C.1

On considère la liste de p-uplets suivante :

```
table = [ ('Grace', 'Hopper', 'F', 1906),
          ('Tim', 'Berners-Lee', 'H', 1955),
          ('Ada', 'Lovelace', 'F', 1815),
          ('Alan', 'Turing', 'H', 1912) ]
```

où chaque p-uplet représente un informaticien ou une informaticienne célèbre ; le premier élément est son prénom, le deuxième élément son nom, le troisième élément son sexe ('H' pour un homme, 'F' pour une femme) et le quatrième élément son année de naissance (un nombre entier entre 1000 et 2000).

On définit une fonction :

```
def fonctionMystere(table):
    mystere = []
    for ligne in table:
        if ligne[2] == 'F':
            mystere.append(ligne[1])
    return mystere
```

Que vaut fonctionMystere(table) ?

Réponses

- A ['Grace', 'Ada']
- B [('Grace', 'Hopper', 'F', 1906), ('Ada', 'Lovelace', 'F', 1815)]
- C ['Hopper', 'Lovelace']
- D []

Question C.2

On considère la table suivants :

```
t = [ {'type': 'marteau', 'prix': 17, 'quantité': 32},
      {'type': 'scie', 'prix': 24, 'quantité': 3},
      {'type': 'tournevis', 'prix': 8, 'quantité': 45} ]
```

Quelle expression permet d'obtenir la quantité de scies ?

Réponses

- A t[2]['quantité']
- B t[1]['quantité']
- C t['quantité'][1]
- D t['scies']['quantité']



Question C.3

On définit une table d'élèves et une liste finale de la façon suivante :

```
table_eleves = [ {"prenom": "Ada", "nom" : "Lovelace", "age" : 17},  
                 {"prenom": "Charles", "nom" : "Babbage", "age" : 18},  
                 {"prenom": "John", "nom" : "Von Neumann", "age" : 16} ]  
liste_finale = [ eleve for eleve in table_eleves if eleve["age"] >= 18 ]
```

Que contient cette liste finale ?

Réponses

- A La liste des prénoms des élèves majeurs de la table.
- B La liste des âges des élèves majeurs de la table.
- C La liste des élèves majeurs de la table, chaque élément de la liste étant représenté par un dictionnaire.
- D La liste des élèves majeurs de la table, chaque élément de la liste étant représenté par une liste.

Question C.4

Laquelle de ces listes de chaînes de caractères est triée en ordre croissant ?

Réponses

- A ['Chat', 'Chien', 'Cheval', 'Cochon']
- B ['Chat', 'Cheval', 'Chien', 'Cochon']
- C ['Chien', 'Cheval', 'Cochon', 'Chat']
- D ['Cochon', 'Chien', 'Cheval', 'Chat']

Question C.5

Laquelle de ces affirmations est vraie ?

Réponses

- A on ne peut accéder au contenu d'un fichier CSV que par l'intermédiaire d'un programme Python
- B CSV est un format de chiffrement des données
- C le format CSV a été conçu pour assurer la confidentialité d'une partie du code d'un programme
- D les fichiers CSV sont composés de données séparées par des caractères comme des virgules

Question C.6

Parmi les extensions suivantes, laquelle caractérise un fichier contenant des données que l'on peut associer à un tableau de pixels ?

Réponses

- A pdf
- B xls
- C png
- D exe

Modèle CCYC : ©DNE

Nom de famille (naissance) :


(Suivi s'il y a lieu, du nom d'usage)

Prénom(s) :

N° candidat : **N° d'inscription** :

(Les numéros figurent sur la convocation.)

Né(e) le : / /



RÉPUBLIQUE FRANÇAISE

1.1

Thème D : interactions entre l'homme et la machine sur le Web

Question D.1

Les pages HTML sont affichées par ...

Réponses

- A le compilateur
- B le serveur
- C l'interpréteur
- D le navigateur Web

Question D.2

Quel est le code HTML correct pour créer un hyperlien vers le site Eduscol ?

Réponses

- A ` site Eduscol `
- B ` site Eduscol `
- C ` site Eduscol `
- D `<a> https://www.eduscol.education.fr/ site Eduscol`

Question D.3

Dans le contexte du Web, qu'est-ce qu'une transmission chiffrée ?

Réponses

- A une transmission optimisée pour les grands nombres
- B une transmission sous forme binaire
- C une transmission d'informations cryptées
- D une transmission facturée proportionnellement à la taille du message

Question D.4

Un élément `form` (un formulaire) d'une page HTML contient un élément `button` de type `submit`. Un clic sur ce bouton :

Réponses

- A envoie les données du formulaire vers la page définie par l'attribut `action` de l'élément `form`
- B efface les données entrées par l'utilisateur dans le formulaire
- C envoie les données du formulaire vers la page définie par l'attribut `method` de l'élément `form`
- D ne fait rien du tout si un script javascript n'est pas associé au bouton

Question D.5

Quelle méthode est utilisée via une requête HTTP pour envoyer une image via un formulaire HTML ?

Réponses

- A HEAD
- B PUT
- C POST
- D GET



Question D.6

On souhaite qu'un menu apparaisse à chaque fois que l'utilisateur passe sa souris sur l'image de bannière du site. L'attribut de la balise `img` dans lequel on doit mettre un code Javascript à cet effet est :

Réponses

- A `onclick`
- B `src`
- C `alt`
- D `onmouseover`

Modèle CCYC : ©DNE

Nom de famille (naissance) :

(Suivi s'il y a lieu, du nom d'usage)

Prénom(s) :

N° candidat : N° d'inscription :

(Les numéros figurent sur la convocation.)

Né(e) le : / /



RÉPUBLIQUE FRANÇAISE

1.1

Thème E : architectures matérielles et systèmes d'exploitation

Question E.1

Dans le protocole de communication IP :

Réponses

- A Les données sont envoyées en une seule partie.
- B Les données sont envoyées en plusieurs parties qui suivent le même itinéraire au sein du réseau.
- C Les données sont envoyées en plusieurs parties qui suivent des itinéraires différents au sein du réseau et arrivent à destination en respectant l'ordre de leur envoi.
- D Les données sont envoyées en plusieurs parties qui suivent des itinéraires différents au sein du réseau et arrivent à destination dans un ordre quelconque.

Question E.2

Quelle est la racine du système de fichier de Linux ?

Réponses

- A /
- B root
- C sudo
- D home

Question E.3

Lorsqu'un utilisateur lance une application, le système d'exploitation va l'ouvrir dans :

Réponses

- A un espace disponible du disque SSD
- B un espace disponible du disque HDD
- C un espace disponible de la RAM
- D un espace disponible de la ROM

Question E.4

Dans la console Linux, quelle commande faut-il exécuter pour effacer le fichier test0.csv ?

Réponses

- A `rm test0.csv`
- B `cp test0.csv`
- C `ls test0.csv`
- D `mv test0.csv`

Question E.5

Sous Unix, quelle commande permet de créer un nouveau répertoire ?

Réponses

- A `mkdir`
- B `echo`
- C `ls`
- D `rm`



Question E.6

Que peut-on dire du système de fichier, suite à l'exécution des commandes suivantes ?

```
% cd
% ls
Documents Images Videos help.txt tutorial.txt script.py
% mv *.txt Documents
```

Réponses

- A L'utilisateur Documents a pris possession des fichiers help.txt et tutorial.txt
- B Le répertoire /Documents contient maintenant les fichiers help.txt et tutorial.txt
- C Le répertoire Documents du répertoire de l'utilisateur contient maintenant les fichiers help.txt et tutorial.txt
- D script.py a été exécuté et a déplacé les fichiers textes

Modèle CCYC : ©DNE

Nom de famille (naissance) :


(Suivi s'il y a lieu, du nom d'usage)

Prénom(s) :

N° candidat : N° d'inscription :

(Les numéros figurent sur la convocation.)

Né(e) le : / /



1.1

Thème F : langages et programmation

Question F.1

On considère le code suivant :

```
def puiss(y,x):
    res = y
    for i in range(x):
        res = res*y
    return res
```

Quelles sont les préconditions sur les arguments ?

Réponses

- A les arguments doivent être obligatoirement de type entier
- B les arguments peuvent être de type entier ou flottant
- C le type des arguments n'a pas d'importance
- D il n'y a pas de préconditions dans ce cas

Question F.2

En voulant programmer une fonction qui calcule la valeur minimale d'une liste d'entiers, on a écrit :

```
def minimum(L):
    mini = 0
    for e in L:
        if e < mini:
            mini = e
    return mini
```

Cette fonction a été mal programmée. Pour quelle liste ne donnera-t-elle pas le résultat attendu, c'est-à-dire son minimum ?

Réponses

- A [-1, -8, 12, 2, 23]
- B [0, 18, 12, 2, 3]
- C [-1, -1, 12, 12, 23]
- D [1, 8, 12, 2, 23]



Question F.3

Quelle est la valeur de la variable `b` à la fin de l'exécution du script suivant ?

```
a = 2
b = 5
if a > 8:
    b = 10
elif a > 6:
    b = 3
```

Réponses

- A 3
- B 5
- C 6
- D 10

Question F.4

Karine écrit une bibliothèque Python, nommée `GeomPlan`, de géométrie plane dont voici un extrait :

```
import math

def aireDisque(R):
    return math.pi * R**2
```

Gilles utilise cette bibliothèque pour calculer l'aire d'un disque de rayon 8.
Laquelle des instructions suivantes renvoie un message d'erreur ?

Réponses

- A `import GeomPlan`
`GeomPlan.aireDisque(8)`
- B `import GeomPlan`
`aireDisque(8)`
- C `from GeomPlan import *`
`aireDisque(8)`
- D `from GeomPlan import aireDisque`
`aireDisque(8)`

Question F.5

On considère l'instruction suivante :

```
resultat = [0] * 7
```

Que contient la variable `resultat` après son exécution ?

Réponses

- A 0
- B [0]
- C [[0], [0], [0], [0], [0], [0], [0]]
- D [0, 0, 0, 0, 0, 0, 0]

Question F.6

Quelle est la valeur de la variable `n` à la fin de l'exécution du script ci-dessous ?

Modèle CCYC : ©DNE

Nom de famille (naissance) :
(Suivi s'il y a lieu, du nom d'usage)

--	--	--	--	--	--	--	--	--	--	--	--	--	--	--	--	--	--	--	--	--	--	--

Prénom(s) :

--	--	--	--	--	--	--	--	--	--	--	--	--	--	--	--	--	--	--	--	--	--	--

N° candidat :

--	--	--	--	--	--	--	--	--	--	--	--	--	--	--	--

N° d'inscription :

--	--	--



Liberté • Égalité • Fraternité
RÉPUBLIQUE FRANÇAISE

Né(e) le :

(Les numéros figurent sur la convocation.)

		/			/					
--	--	---	--	--	---	--	--	--	--	--

1.1

```
n = 1
for i in range(4):
    n = n + 2
```

Réponses

- A 1
- B 8
- C 9
- D 18



Thème G : algorithmique

Question G.1

On définit une fonction de calcul de la moyenne d'une liste de nombres :

```
def moyenne(L):  
    s = 0  
    n = len(L)  
    for x in L:  
        s = s + x  
    return s/n
```

Combien cette fonction utilise-t-elle d'additions et de divisions pour calculer la moyenne d'une liste de 7 nombres ?

Réponses

- A 7
- B 8
- C 9
- D 10

Question G.2

À quelle catégorie appartient l'algorithme des k plus proches voisins ?

Réponses

- A algorithmes de tri
- B algorithmes gloutons
- C algorithmes de recherche de chemins
- D algorithmes de classification et d'apprentissage


Question G.3

La fonction suivante doit déterminer la valeur maximale d'un tableau de nombres passé en argument. Avec quelles expressions faut-il remplacer les pointillés du script suivant pour que la fonction soit correcte ?

```
def maximum(T):  
    maxi = T[0]  
    n = len(T)  
    for i in range(i, .....):  
        if T[i] > maxi:  
            maxi = .....  
    return maxi
```

Réponses

- A n puis T[i]
- B n puis T[i-1]
- C n-1 puis T[i]
- D n-1 puis T[i-1]

Modèle CCYC : ©DNE																					
Nom de famille (naissance) : <i>(Suivi s'il y a lieu, du nom d'usage)</i>																					
Prénom(s) :																					
N° candidat :											N° d'inscription :										
 Liberté • Égalité • Fraternité RÉPUBLIQUE FRANÇAISE	<i>(Les numéros figurent sur la convocation.)</i>																				
Né(e) le :			/			/															

1.1

Question G.4

On conçoit un algorithme permettant de déterminer la valeur maximale parmi une liste quelconque de valeurs comparables.

Pour une liste de 100 valeurs, le nombre minimal de comparaisons que doit effectuer cet algorithme est :

Réponses

- A 7
- B 99
- C 200
- D 10000

Question G.5

La recherche dichotomique est un algorithme rapide qui permet de trouver ou non la présence d'un élément dans un tableau. Mais, pour l'utiliser, une contrainte est indispensable, laquelle ?

Réponses

- A le tableau ne contient que des nombres positifs
- B la longueur du tableau est une puissance de 2
- C le tableau est trié en ordre croissant
- D le tableau ne contient pas la valeur 0

Question G.6

Que fait la fonction suivante :

```
def trouver(L):
    i = 0
    for j in range(1, len(L)):
        if L[j] >= L[i]:
            i = j
    return i
```

Réponses

- A elle renvoie le maximum de la liste
- B elle renvoie le minimum de la liste
- C elle renvoie l'indice de la première occurrence du maximum de la liste
- D elle renvoie l'indice de la dernière occurrence du maximum de la liste