

Modèle CCYC : ©DNE

Nom de famille (naissance) :


(Suivi s'il y a lieu, du nom d'usage)

Prénom(s) :

N° candidat :  N° d'inscription :

(Les numéros figurent sur la convocation.)

Né(e) le :



RÉPUBLIQUE FRANÇAISE

1.1

## ÉVALUATION COMMUNE

**CLASSE** : Première

**VOIE** :  Générale  Technologique  Toutes voies (LV)

**ENSEIGNEMENT** : spécialité **Numérique et Sciences Informatiques (NSI)**

**DURÉE DE L'ÉPREUVE** : 02 h 00

**Niveaux visés (LV)** : LVA LVB

**Axes de programme** :

**CALCULATRICE AUTORISÉE** :  Oui  Non

**DICTIONNAIRE AUTORISÉ** :  Oui  Non

Ce sujet contient des parties à rendre par le candidat avec sa copie. De ce fait, il ne peut être dupliqué et doit être imprimé pour chaque candidat afin d'assurer ensuite sa bonne numérisation.

Ce sujet intègre des éléments en couleur. S'il est choisi par l'équipe pédagogique, il est nécessaire que chaque élève dispose d'une impression en couleur.

Ce sujet contient des pièces jointes de type audio ou vidéo qu'il faudra télécharger et jouer le jour de l'épreuve.

**Nombre total de pages** : 19

L'épreuve consiste en 42 questions, rangées en 7 thèmes.

Pour chaque question, le candidat gagne 3 points s'il choisit la bonne réponse, perd 1 point s'il choisit une réponse fautive. S'il ne répond pas ou choisit plusieurs réponses, il ne gagne ni ne perd aucun point.

Le total sur chacun des 7 thèmes est ramené à 0 s'il est négatif.

La note finale s'obtient en divisant le total des points par 6,3 et en arrondissant à l'entier supérieur.

**Le candidat indique ses réponses aux questions en pages 2 et 3.**

**Seules les pages 1 à 4 sont rendues par le candidat à la fin de l'épreuve, pour être numérisées.**

Les questions figurent sur les pages suivantes.



### **Thème A : types de base**

Réponse à la question 1	A <input type="checkbox"/>	B <input type="checkbox"/>	C <input type="checkbox"/>	D <input type="checkbox"/>
Réponse à la question 2	A <input type="checkbox"/>	B <input type="checkbox"/>	C <input type="checkbox"/>	D <input type="checkbox"/>
Réponse à la question 3	A <input type="checkbox"/>	B <input type="checkbox"/>	C <input type="checkbox"/>	D <input type="checkbox"/>
Réponse à la question 4	A <input type="checkbox"/>	B <input type="checkbox"/>	C <input type="checkbox"/>	D <input type="checkbox"/>
Réponse à la question 5	A <input type="checkbox"/>	B <input type="checkbox"/>	C <input type="checkbox"/>	D <input type="checkbox"/>
Réponse à la question 6	A <input type="checkbox"/>	B <input type="checkbox"/>	C <input type="checkbox"/>	D <input type="checkbox"/>

### **Thème B : types construits**

Réponse à la question 1	A <input type="checkbox"/>	B <input type="checkbox"/>	C <input type="checkbox"/>	D <input type="checkbox"/>
Réponse à la question 2	A <input type="checkbox"/>	B <input type="checkbox"/>	C <input type="checkbox"/>	D <input type="checkbox"/>
Réponse à la question 3	A <input type="checkbox"/>	B <input type="checkbox"/>	C <input type="checkbox"/>	D <input type="checkbox"/>
Réponse à la question 4	A <input type="checkbox"/>	B <input type="checkbox"/>	C <input type="checkbox"/>	D <input type="checkbox"/>
Réponse à la question 5	A <input type="checkbox"/>	B <input type="checkbox"/>	C <input type="checkbox"/>	D <input type="checkbox"/>
Réponse à la question 6	A <input type="checkbox"/>	B <input type="checkbox"/>	C <input type="checkbox"/>	D <input type="checkbox"/>

### **Thème C : traitement de données en tables**

Réponse à la question 1	A <input type="checkbox"/>	B <input type="checkbox"/>	C <input type="checkbox"/>	D <input type="checkbox"/>
Réponse à la question 2	A <input type="checkbox"/>	B <input type="checkbox"/>	C <input type="checkbox"/>	D <input type="checkbox"/>
Réponse à la question 3	A <input type="checkbox"/>	B <input type="checkbox"/>	C <input type="checkbox"/>	D <input type="checkbox"/>
Réponse à la question 4	A <input type="checkbox"/>	B <input type="checkbox"/>	C <input type="checkbox"/>	D <input type="checkbox"/>
Réponse à la question 5	A <input type="checkbox"/>	B <input type="checkbox"/>	C <input type="checkbox"/>	D <input type="checkbox"/>
Réponse à la question 6	A <input type="checkbox"/>	B <input type="checkbox"/>	C <input type="checkbox"/>	D <input type="checkbox"/>

### **Thème D : interactions entre l'homme et la machine sur le Web**

Réponse à la question 1	A <input type="checkbox"/>	B <input type="checkbox"/>	C <input type="checkbox"/>	D <input type="checkbox"/>
Réponse à la question 2	A <input type="checkbox"/>	B <input type="checkbox"/>	C <input type="checkbox"/>	D <input type="checkbox"/>
Réponse à la question 3	A <input type="checkbox"/>	B <input type="checkbox"/>	C <input type="checkbox"/>	D <input type="checkbox"/>
Réponse à la question 4	A <input type="checkbox"/>	B <input type="checkbox"/>	C <input type="checkbox"/>	D <input type="checkbox"/>
Réponse à la question 5	A <input type="checkbox"/>	B <input type="checkbox"/>	C <input type="checkbox"/>	D <input type="checkbox"/>
Réponse à la question 6	A <input type="checkbox"/>	B <input type="checkbox"/>	C <input type="checkbox"/>	D <input type="checkbox"/>

Modèle CCYC : ©DNE

Nom de famille (naissance) :  
(Suivi s'il y a lieu, du nom d'usage)

--	--	--	--	--	--	--	--	--	--	--	--	--	--	--	--	--	--	--	--	--

Prénom(s) :

--	--	--	--	--	--	--	--	--	--	--	--	--	--	--	--	--	--	--	--	--

N° candidat :

--	--	--	--	--	--	--	--	--	--	--	--	--	--	--	--	--	--	--	--	--

N° d'inscription :

--	--	--	--



Né(e) le :

		/			/				
--	--	---	--	--	---	--	--	--	--

(Les numéros figurent sur la convocation.)

### Thème E : architectures matérielles et systèmes d'exploitation

- Réponse à la question 1     A     B     C     D
- Réponse à la question 2     A     B     C     D
- Réponse à la question 3     A     B     C     D
- Réponse à la question 4     A     B     C     D
- Réponse à la question 5     A     B     C     D
- Réponse à la question 6     A     B     C     D

### Thème F : langages et programmation

- Réponse à la question 1     A     B     C     D
- Réponse à la question 2     A     B     C     D
- Réponse à la question 3     A     B     C     D
- Réponse à la question 4     A     B     C     D
- Réponse à la question 5     A     B     C     D
- Réponse à la question 6     A     B     C     D

### Thème G : algorithmique

- Réponse à la question 1     A     B     C     D
- Réponse à la question 2     A     B     C     D
- Réponse à la question 3     A     B     C     D
- Réponse à la question 4     A     B     C     D
- Réponse à la question 5     A     B     C     D
- Réponse à la question 6     A     B     C     D



<b>Modèle CCYC : ©DNE</b>																				
<b>Nom de famille</b> (naissance) : <small>(Suivi s'il y a lieu, du nom d'usage)</small>																				
<b>Prénom(s) :</b>																				
<b>N° candidat :</b>											<b>N° d'inscription :</b>									
											<small>(Les numéros figurent sur la convocation.)</small>									
<b>Né(e) le :</b>			/			/														

1.1

## Thème A : types de base

### Question A.1

Parmi les noms suivants, lequel **n'est pas** celui d'une méthode d'encodage des caractères ?

#### Réponses

- A UTF-16
- B ASCII
- C Arial
- D Unicode

### Question A.2

Quel est le plus grand entier positif que l'on peut coder sur un mot de 16 bits ?

#### Réponses

- A  $2^{15} - 1 = 32767$
- B  $2^{15} = 32768$
- C  $2^{16} - 1 = 65535$
- D  $2^{16} = 65536$

### Question A.3

Parmi les quatre expressions suivantes, laquelle s'évalue en True ?

#### Réponses

- A False and (True and False)
- B False or (True and False)
- C True and (True and False)
- D True or (True and False)

### Question A.4

Quelle est la représentation en base 2 du nombre représenté dans la base 16 par A6B ?

#### Réponses

- A 2667
- B 10101101011
- C 101001101011
- D 110100110101

### Question A.5

À quoi sert le codage en complément à 2 ?

#### Réponses

- A à inverser un nombre binaire
- B à coder des nombres entiers négatifs en binaire
- C à convertir un nombre en hexadécimal
- D à multiplier par 2 un nombre en binaire



**Question A.6**

Soit  $n$  l'entier positif dont l'écriture binaire est 10001. Quelle est l'écriture binaire de l'entier  $2n$  ?

**Réponses**

- A 20002
- B 100010
- C 010001
- D 1000110001

Modèle CCYC : ©DNE

Nom de famille (naissance) :

(Suivi s'il y a lieu, du nom d'usage)

Prénom(s) :

N° candidat :

N° d'inscription :



Liberté • Égalité • Fraternité  
RÉPUBLIQUE FRANÇAISE

Né(e) le :

(Les numéros figurent sur la convocation.)

1.1

## Thème B : types construits

### Question B.1

Quelle est la valeur de la variable S à la fin de l'exécution du script suivant ?

```
res = [ [1,2,3], [4,5,6], [7,8,9] ]
S = 0
for i in range(3):
    S = S + res[i][2]
```

### Réponses

- A 12
- B 15
- C 18
- D 24

### Question B.2

On définit une liste : L = [1, 1, 2, 9, 3, 4, 5, 6, 7].

Quelle expression a-t-elle pour valeur la liste [4, 16, 36] ?

### Réponses

- A [(x \* x) % 2 == 0 for x in liste]
- B [x for x in liste if x % 2 == 0]
- C [x \* x for x in liste]
- D [x \* x for x in liste if x % 2 == 0]

### Question B.3

On définit : T = [7\*n for n in range(10)].

Quelle est la valeur de l'expression T[7] ?

### Réponses

- A 42
- B 49
- C 56
- D 70

### Question B.4

On définit :

```
dico = {"Herve": 15, "Kevin":17, "Fatima":16}
```

qui associe nom et âge de trois élèves.

Comment accéder à l'âge de Kevin ?

### Réponses

- A dico[1]
- B dico[Kevin]
- C dico["Kevin"]
- D dico("Kevin")

### Question B.5

On définit L = [2, 3, 5, 7, -4].



En demandant la valeur de  $L[5]$ , qu'obtient-on ?

**Réponses**

- A -4
- B 2
- C 3
- D une erreur

**Question B.6**

Quelle est la valeur de la variable  $r$  à la fin de l'exécution du script suivant ?

```
t = (10,6,1,12,15)
r = t[3] - t[1]
```

**Réponses**

- A -9
- B 2
- C 3
- D 6







### Question C.3

Par quoi faut-il remplacer les pointillés dans le script suivant :

```
relevé = [ {'matière':'EPS','moyenne':11},
           {'matière':'Sciences','moyenne':6},
           {'matière':'LV1','moyenne':14},     {'matière':'Histoire','moyenne':9},
           {'matière':'LV2','moyenne':15} ]

a = .....
b = .....
for i in relevé :
    if i[a] > 10:
        print(i[b])
```

pour qu'il affiche

```
EPS
LV1
LV2
```

### Réponses

- A a = 'moyenne'  
b = 'matière'
- B a = 'matière'  
b = 'moyenne'
- C a = 0  
b = 1
- D a = 1  
b = 0

### Question C.4

On définit :

```
T = [ {'fruit': 'banane', 'nombre': 25}, {'fruit': 'orange', 'nombre':
124},
      {'fruit': 'pomme', 'nombre': 75}, {'fruit': 'kiwi', 'nombre': 51}
]
```

Quelle expression a-t-elle pour valeur le nombre de pommes ?

### Réponses

- A T[2]['nombre']
- B T[2,'nombre']
- C T[3]['nombre']
- D T[3,'nombre']

### Question C.5

Parmi les extensions suivantes, laquelle caractérise un fichier contenant des données que l'on peut associer à un tableau de pixels ?

### Réponses

- A pdf
- B xls
- C png
- D exe

Modèle CCYC : ©DNE

Nom de famille (naissance) :


(Suivi s'il y a lieu, du nom d'usage)

Prénom(s) :

N° candidat :  N° d'inscription :

(Les numéros figurent sur la convocation.)

Né(e) le :  /  /



Liberté • Égalité • Fraternité  
RÉPUBLIQUE FRANÇAISE

1.1

**Question C.6**

On a récupéré le contenu d'un fichier CSV contenant le nom, le prénom et l'âge de personnes dans une table implémentée par la liste de dictionnaires suivante :

```
table = [{"nom": "dupont", "prenom": "jean", "age": 16},
         {"nom": "durant", "prenom": "pierre", "age": 15},
         . . . . .
         {"nom": "doe", "prenom": "jane", "age": 16}]
```

Quelle expression représente-t-elle la liste des noms des personnes dont l'âge a pour valeur 16 ?

**Réponses**

- A [personne[nom] for personne in table if personne[age]==16]
- B [personne["nom"] for personne in table if personne["age"]==16]
- C [personne["nom"] for personne in table if personne["age"]=16]
- D [nom if age==16 for nom,age in table ]



## Thème D : interactions entre l'homme et la machine sur le Web

### Question D.1

Quelle méthode doit utiliser la requête envoyée au serveur lorsque vous entrez votre identifiant et votre mot de passe dans un formulaire sécurisé ?

#### Réponses

- A GET
- B POST
- C FORM
- D SUBMIT

### Question D.2

Après avoir tenté d'accéder à un site, le navigateur affiche : 403 Forbidden.

Cela signifie que :

#### Réponses

- A la connexion à Internet est défectueuse
- B le navigateur a refusé d'envoyer la requête
- C le serveur a répondu par un code d'erreur
- D le serveur n'a jamais répondu

### Question D.3

On considère cet extrait de fichier HTML représentant les onglets d'une barre de navigation :

```
<ul id="tab-nav">
  <li><a href="onglet1.html" class="tab-nav-active">Onglet 1</a></li>
  <li><a href="onglet2.html">Onglet 2</a></li>
  <li><a href="onglet3.html">Onglet 3</a></li>
</ul>
```

Quel code CSS permet de mettre en bleu la couleur de fond des onglets et uniquement eux ?

#### Réponses

- A `tab-nav a { background-color : blue; }`
- B `tab-nav, a { background-color : blue; }`
- C `#tab-nav a { background-color : blue; }`
- D `#tab-nav, a { background-color : blue; }`

### Question D.4

Pour créer un lien vers la page d'accueil de Wikipédia, que devra-t-on écrire dans une page Web ?

#### Réponses

- A `<a target="http://fr.wikipedia.org">wikipédia</a>`
- B `<a href="http://fr.wikipedia.org" />`
- C `<a href="http://fr.wikipedia.org">wikipédia</a>`
- D `<link src="http://fr.wikipedia.org">wikipédia</link>`

Modèle CCYC : ©DNE

Nom de famille (naissance) :

(Suivi s'il y a lieu, du nom d'usage)

Prénom(s) :

N° candidat :  N° d'inscription :

(Les numéros figurent sur la convocation.)

Né(e) le :  /  /



1.1

**Question D.5**

Quelle est la balise HTML utilisée pour indiquer un titre de niveau d'importance maximal ?

**Réponses**

- A la balise <h0>
- B la balise <h1>
- C la balise <head>
- D la balise <header>

**Question D.6**

On considère cet extrait de fichier HTML représentant les onglets d'une barre de navigation :

```
function BoutonGris() {
  var btn = document.createElement("BUTTON");
  btn.innerHTML = "Annulation";
  document.getElementById("DIV").appendChild(btn);
}
```

**Réponses**

- A elle remplace un élément DIV par un bouton
- B elle annule l'élément BUTTON
- C elle crée un bouton comportant le texte "Annulation"
- D elle recherche le bouton "BUTTON" et crée une copie appelée "btn"



## Thème E : architectures matérielles et systèmes d'exploitation

### Question E.1

Lequel de ces systèmes d'exploitation est libre ?

#### Réponses

- A Linux
- B Windows
- C MacOS
- D iOS

### Question E.2

Quel matériel permet d'interconnecter des **ordinateurs** entre eux :

#### Réponses

- A un routeur
- B un commutateur (ou *switch*)
- C un interconnecteur
- D un serveur

### Question E.3

Quelle est la commande qui permet d'afficher le répertoire courant dans le shell GNU/Linux ?

#### Réponses

- A `mkdir`
- B `pwd`
- C `cd`
- D `ls -l`

### Question E.4

Une et une seule de ces affirmations est **fausse**. Laquelle ?

#### Réponses

- A Un système d'exploitation libre est la plupart du temps gratuit
- B Je peux contribuer à un système d'exploitation libre
- C Il est interdit d'étudier un système d'exploitation propriétaire
- D Un système d'exploitation propriétaire est plus sécurisé

### Question E.5

Parmi les adresses suivantes, laquelle est une adresse Ethernet non valide ?

#### Réponses

- A 8D:A9:D5:67:E6:F3
- B 8d:a9:d5:67:e6:f3
- C 8H:A9:D5:67:E6:F3
- D FF:A9:D5:67:E6:F3

Modèle CCYC : ©DNE

**Nom de famille** (naissance) :


(Suivi s'il y a lieu, du nom d'usage)

**Prénom(s)** :

**N° candidat** :  **N° d'inscription** :

(Les numéros figurent sur la convocation.)

**Né(e) le** :  /  /



1.1

**Question E.6**

Sur un ordinateur, où est stocké de manière permanente le système d'exploitation ?

**Réponses**

- A dans la mémoire RAM
- B sur le bus de donnée
- C sur le disque dur ou le disque SSD
- D dans le Cloud



## Thème F : langages et programmation

### Question F.1

On exécute le script suivant.

```
a,b = 10,3
if a < 10:
    a,b = a+2,b+a
```

Quelle est la valeur de  $b$  à la fin de son exécution ?

#### Réponses

- A 3
- B 12
- C 13
- D 15

### Question F.2

On exécute le script suivant :

```
a = 4
b = 4
c = 4
while a < 5:
    a = a - 1
    b = b + 1
    c = c * b
```

Que peut-on dire ?

#### Réponses

- A ce programme ne termine pas
- B à la fin de l'exécution, la variable  $a$  vaut 5
- C à la fin de l'exécution, la variable  $b$  vaut 34
- D à la fin de l'exécution, la variable  $C$  vaut 42

### Question F.3

Quel est le seul langage de programmation parmi les propositions suivantes ?

#### Réponses

- A HTML
- B CSS
- C C++
- D WEB



Modèle CCYC : ©DNE

Nom de famille (naissance) :

(Suivi s'il y a lieu, du nom d'usage)

Prénom(s) :

N° candidat :

N° d'inscription :



Né(e) le :

(Les numéros figurent sur la convocation.)

1.1

#### Question F.4

On exécute le script Python suivant :

```
def cube(a):
    a = a*a*a
    return a
a = 2
b = cube(a)
```

Que vaut le couple (a, b) à la fin de l'exécution ?

##### Réponses

- A (8, 8)
- B (8, 2)
- C (2, 2)
- D (2, 8)

#### Question F.5

On définit la fonction :

```
def fib(n):
    t = [0] * n
    t[1] = 1
    for in in range(2,n):
        t[in] = t[in-1] + t[in-2]
    return t
```

Quelle est la valeur renvoyée par l'appel fib(6) ?

##### Réponses

- A [0, 1, 1, 2, 3]
- B [0, 1, 1, 2, 3, 5]
- C [0, 1, 1, 2, 3, 5, 8]
- D [0, 1, 2, 3, 5, 8]

#### Question F.6

On exécute le script suivant :

```
resultat = [0] * 7
```

Que contient la variable resultat après son exécution ?

##### Réponses

- A 0
- B [0]
- C [[0], [0], [0], [0], [0], [0], [0]]
- D [0, 0, 0, 0, 0, 0, 0]



## Thème G : algorithmique

### Question G.1

Pour rendre la monnaie, il est possible d'utiliser un algorithme glouton.

Une seule des affirmations suivantes est vraie :

#### Réponses

- A Avec un algorithme glouton, on rend la monnaie en commençant toujours par la pièce ayant la plus grande valeur possible et en procédant ensuite par valeurs décroissantes.
- B Avec un algorithme glouton, on rend la monnaie en commençant toujours par la pièce de plus petite valeur afin de maximiser le nombre de pièces rendues.
- C Quel que soit le type de pièces dans un pays donné, un algorithme glouton donne toujours la monnaie de manière optimale.
- D Un algorithme glouton procède en testant toutes les combinaisons possibles de pièces afin de trouver le rendu optimal.

### Question G.2

Que renvoie la fonction suivante quand on l'appelle avec un nombre entier et une liste d'entiers ?

```
def mystere(n,L):  
    for x in L:  
        if n == x:  
            return True  
    return False
```

#### Réponses

- A une valeur booléenne indiquant si le nombre  $n$  est présent au moins une fois dans la liste  $L$
- B une valeur booléenne indiquant si le nombre  $n$  est présent plusieurs fois dans la liste  $L$
- C une valeur booléenne indiquant si le nombre  $n$  est le plus grand de la liste  $L$
- D une valeur booléenne indiquant si le nombre  $n$  est le plus petit de la liste  $L$

### Question G.3

On exécute le script suivant :

```
for i in range(n):  
    for j in range(i):  
        print('NSI')
```

Combien de fois le mot NSI est-il affiché ?

#### Réponses

- A  $n^2$
- B  $(n + 1)^2$
- C  $1 + 2 + \dots + (n - 1)$
- D  $1 + 2 + \dots + (n - 1) + n$

Modèle CCYC : ©DNE

Nom de famille (naissance) :

(Suivi s'il y a lieu, du nom d'usage)

Prénom(s) :

N° candidat :

N° d'inscription :



Né(e) le :

(Les numéros figurent sur la convocation.)

1.1

#### Question G.4

On considère le code suivant de recherche d'une valeur dans une liste :

```
def search(x, y):
    # x est la valeur à chercher
    # y est une liste de valeurs
    for i in range(len(y)):
        if x == y[i]:
            return i
    return None
```

Quel est le coût de cet algorithme ?

#### Réponses

- A constant
- B logarithmique
- C linéaire
- D quadratique

#### Question G.5

On exécute le script suivant :

```
liste=[48, 17, 25 , 9, 34, 12, -5, 89, 54, 12, 78, 8, 155, -85]
```

```
def recherche(liste):
    valeur_1 = liste[0]
    valeur_2 = liste[0]
    for item in liste:
        if item < valeur_1:
            valeur_1 = item
        elif item > valeur_2:
            valeur_2 = item
    return(valeur_1, valeur_2)
```

Que va renvoyer l'appel recherche(liste) ?

#### Réponses

- A (-85,155)
- B [-85,155]
- C (155,-85)
- D [155,-85]

#### Question G.6

Pour pouvoir utiliser un algorithme de recherche par dichotomie dans une liste, quelle précondition doit être vraie ?

#### Réponses

- A la liste doit être triée
- B la liste ne doit pas comporter de doublons
- C la liste doit comporter uniquement des entiers positifs
- D la liste doit être de longueur inférieure à 1024