

Modèle CCYC : ©DNE
Nom de famille (naissance) :
(Suivi s'il y a lieu, du nom d'usage)

Prénom(s) :

N° candidat : N° d'inscription :

(Les numéros figurent sur la convocation.)

Né(e) le : / /



1.1

ÉVALUATION COMMUNE

CLASSE : Première

VOIE : Générale Technologique Toutes voies (LV)

ENSEIGNEMENT : spécialité Numérique et Sciences Informatiques (NSI)

DURÉE DE L'ÉPREUVE : 02 h 00

Niveaux visés (LV) : LVA LVB

Axes de programme :

CALCULATRICE AUTORISÉE : Oui Non

DICTIONNAIRE AUTORISÉ : Oui Non

Ce sujet contient des parties à rendre par le candidat avec sa copie. De ce fait, il ne peut être dupliqué et doit être imprimé pour chaque candidat afin d'assurer ensuite sa bonne numérisation.

Ce sujet intègre des éléments en couleur. S'il est choisi par l'équipe pédagogique, il est nécessaire que chaque élève dispose d'une impression en couleur.

Ce sujet contient des pièces jointes de type audio ou vidéo qu'il faudra télécharger et jouer le jour de l'épreuve.

Nombre total de pages : 19

L'épreuve consiste en 42 questions, rangées en 7 thèmes.

Pour chaque question, le candidat gagne 3 points s'il choisit la bonne réponse, perd 1 point s'il choisit une réponse fautive. S'il ne répond pas ou choisit plusieurs réponses, il ne gagne ni ne perd aucun point.

Le total sur chacun des 7 thèmes est ramené à 0 s'il est négatif.

La note finale s'obtient en divisant le total des points par 6,3 et en arrondissant à l'entier supérieur.

Le candidat indique ses réponses aux questions en pages 2 et 3.

Seules les pages 1 à 4 sont rendues par le candidat à la fin de l'épreuve, pour être numérisées.

Les questions figurent sur les pages suivantes.



Thème A : types de base

Réponse à la question 1	A <input type="checkbox"/>	B <input type="checkbox"/>	C <input type="checkbox"/>	D <input type="checkbox"/>
Réponse à la question 2	A <input type="checkbox"/>	B <input type="checkbox"/>	C <input type="checkbox"/>	D <input type="checkbox"/>
Réponse à la question 3	A <input type="checkbox"/>	B <input type="checkbox"/>	C <input type="checkbox"/>	D <input type="checkbox"/>
Réponse à la question 4	A <input type="checkbox"/>	B <input type="checkbox"/>	C <input type="checkbox"/>	D <input type="checkbox"/>
Réponse à la question 5	A <input type="checkbox"/>	B <input type="checkbox"/>	C <input type="checkbox"/>	D <input type="checkbox"/>
Réponse à la question 6	A <input type="checkbox"/>	B <input type="checkbox"/>	C <input type="checkbox"/>	D <input type="checkbox"/>

Thème B : types construits

Réponse à la question 1	A <input type="checkbox"/>	B <input type="checkbox"/>	C <input type="checkbox"/>	D <input type="checkbox"/>
Réponse à la question 2	A <input type="checkbox"/>	B <input type="checkbox"/>	C <input type="checkbox"/>	D <input type="checkbox"/>
Réponse à la question 3	A <input type="checkbox"/>	B <input type="checkbox"/>	C <input type="checkbox"/>	D <input type="checkbox"/>
Réponse à la question 4	A <input type="checkbox"/>	B <input type="checkbox"/>	C <input type="checkbox"/>	D <input type="checkbox"/>
Réponse à la question 5	A <input type="checkbox"/>	B <input type="checkbox"/>	C <input type="checkbox"/>	D <input type="checkbox"/>
Réponse à la question 6	A <input type="checkbox"/>	B <input type="checkbox"/>	C <input type="checkbox"/>	D <input type="checkbox"/>

Thème C : traitement de données en tables

Réponse à la question 1	A <input type="checkbox"/>	B <input type="checkbox"/>	C <input type="checkbox"/>	D <input type="checkbox"/>
Réponse à la question 2	A <input type="checkbox"/>	B <input type="checkbox"/>	C <input type="checkbox"/>	D <input type="checkbox"/>
Réponse à la question 3	A <input type="checkbox"/>	B <input type="checkbox"/>	C <input type="checkbox"/>	D <input type="checkbox"/>
Réponse à la question 4	A <input type="checkbox"/>	B <input type="checkbox"/>	C <input type="checkbox"/>	D <input type="checkbox"/>
Réponse à la question 5	A <input type="checkbox"/>	B <input type="checkbox"/>	C <input type="checkbox"/>	D <input type="checkbox"/>
Réponse à la question 6	A <input type="checkbox"/>	B <input type="checkbox"/>	C <input type="checkbox"/>	D <input type="checkbox"/>

Thème D : interactions entre l'homme et la machine sur le Web

Réponse à la question 1	A <input type="checkbox"/>	B <input type="checkbox"/>	C <input type="checkbox"/>	D <input type="checkbox"/>
Réponse à la question 2	A <input type="checkbox"/>	B <input type="checkbox"/>	C <input type="checkbox"/>	D <input type="checkbox"/>
Réponse à la question 3	A <input type="checkbox"/>	B <input type="checkbox"/>	C <input type="checkbox"/>	D <input type="checkbox"/>
Réponse à la question 4	A <input type="checkbox"/>	B <input type="checkbox"/>	C <input type="checkbox"/>	D <input type="checkbox"/>
Réponse à la question 5	A <input type="checkbox"/>	B <input type="checkbox"/>	C <input type="checkbox"/>	D <input type="checkbox"/>
Réponse à la question 6	A <input type="checkbox"/>	B <input type="checkbox"/>	C <input type="checkbox"/>	D <input type="checkbox"/>

Modèle CCYC : ©DNE

Nom de famille (naissance) :


(Suivi s'il y a lieu, du nom d'usage)

Prénom(s) :

N° candidat : N° d'inscription :

(Les numéros figurent sur la convocation.)

Né(e) le : / /



Liberté • Égalité • Fraternité
RÉPUBLIQUE FRANÇAISE

1.1

Thème E : architectures matérielles et systèmes d'exploitation

- Réponse à la question 1 A B C D
- Réponse à la question 2 A B C D
- Réponse à la question 3 A B C D
- Réponse à la question 4 A B C D
- Réponse à la question 5 A B C D
- Réponse à la question 6 A B C D

Thème F : langages et programmation

- Réponse à la question 1 A B C D
- Réponse à la question 2 A B C D
- Réponse à la question 3 A B C D
- Réponse à la question 4 A B C D
- Réponse à la question 5 A B C D
- Réponse à la question 6 A B C D

Thème G : algorithmique

- Réponse à la question 1 A B C D
- Réponse à la question 2 A B C D
- Réponse à la question 3 A B C D
- Réponse à la question 4 A B C D
- Réponse à la question 5 A B C D
- Réponse à la question 6 A B C D



Modèle CCYC : ©DNE

Nom de famille (naissance) :
(Suivi s'il y a lieu, du nom d'usage)

--	--	--	--	--	--	--	--	--	--	--	--	--	--	--	--	--	--	--	--	--

Prénom(s) :

--	--	--	--	--	--	--	--	--	--	--	--	--	--	--	--	--	--	--	--	--

N° candidat :

--	--	--	--	--	--	--	--	--	--	--	--	--	--	--	--	--	--

N° d'inscription :

--	--	--	--



Né(e) le :

(Les numéros figurent sur la convocation.)

		/			/				
--	--	---	--	--	---	--	--	--	--

1.1

Thème A : types de base

Question A.1

Comment s'écrit le nombre -42 en binaire, sur 8 bits, en complément à 2 ?

Réponses

- A $-0010\ 1010$
- B $1010\ 1011$
- C $1101\ 0101$
- D $1101\ 0110$

Question A.2

Quel est le résultat de l'addition binaire $0010\ 0110 + 1000\ 1110$?

Réponses

- A $1010\ 1110$
- B $0000\ 0110$
- C $1011\ 0100$
- D $0101\ 0001$

Question A.3

Quel est le résultat de l'addition binaire $0100\ 1110 + 0110\ 1101$?

Réponses

- A $0101\ 1011$
- B $1010\ 1101$
- C $1011\ 0110$
- D $1011\ 1011$

Question A.4

Combien de bits faut-il au minimum pour coder le nombre décimal 4085 ?

Réponses

- A 4
- B 12
- C 2042
- D 2043

Question A.5

Quelle est, en écriture décimale, la somme d'entiers dont l'écriture en base 16 (hexadécimale) est $2A + 2$?

Réponses

- A 22
- B 31
- C 49
- D 44



Question A.6

Quelle est la représentation binaire de l'entier 45 ?

Réponses

- A 2D
- B 0010 1101
- C 0100 0101
- D 1011 0100

Modèle CCYC : ©DNE

Nom de famille (naissance) :

(Suivi s'il y a lieu, du nom d'usage)

Prénom(s) :

N° candidat :

N° d'inscription :



Liberté • Égalité • Fraternité
RÉPUBLIQUE FRANÇAISE

Né(e) le :

(Les numéros figurent sur la convocation.)

1.1

Thème B : types construits

Question B.1

Un programme Python présente la ligne suivante

```
x = [ "x1", "x2", "x3" ]
```

Elle définit :

Réponses

- A une liste de trois éléments
- B un tuple de trois éléments
- C une fonction acceptant trois paramètres
- D un dictionnaire associant la valeur x2 à la clé x1 d'indice x3

Question B.2

Quelle est la valeur de l'expression `[[n,n+2] for n in range(3)]` ?

Réponses

- A [0, 2, 1, 3, 2, 4]
- B [1, 3, 2, 4, 3, 5]
- C [[0, 2], [1, 3], [2, 4]]
- D [[1, 3], [2, 4], [3, 5]]

Question B.3

On considère le script suivant :

```
t = [2, 8, 9, 2]
t[2] = t[2] + 5
```

Quelle est la valeur de t à la fin de son exécution ?

Réponses

- A [2, 13, 9, 2]
- B [2, 8, 14, 2]
- C [7, 13, 14, 7]
- D [7, 13, 9, 2]

Question B.4

L'opérateur % calcule le reste de la division euclidienne de l'opérande de gauche par l'opérande de droite. Par exemple : $7 \% 3$ vaut 1, $15 \% 5$ vaut 0 et $18 \% 4$ vaut 2.

On crée la liste suivante :

```
t = [ x for x in range(2,12) if x % 2 == 1 ]
```

Que vaut t :

Réponses

- A [2, 3, 4, 5, 6, 7, 8, 9, 10, 11]
- B [1, 2, 3, 4, 5]
- C [3, 5, 7, 9, 11]
- D [0, 1, 0, 1, 0, 1, 0, 1, 0, 1]



Question B.5

On considère la fonction suivante :

```
def somme(tab):  
    s = 0  
    for i in range(len(tab)):  
        .....  
    return s
```

Par quelle instruction faut-il remplacer les points de suspension pour que l'appel `somme([10,11,12,13,14])` renvoie 60 ?

Réponses

- A `s = tab[i]`
- B `s = s + tab[i]`
- C `tab[i] = tab[i] + s`
- D `s = s + i`

Question B.6

On considère deux entiers strictement positifs L et C. On note $n = L * C$ leur produit et on écrit la fonction suivante, qui construit un tableau de L lignes et C colonnes, contenant les entiers consécutifs de 0 à $n-1$:

```
def construitTable(L,C):  
    t = []  
    for i in range(L):  
        ligne = []  
        for j in range(C):  
            .....  
        t.append(ligne)  
    return t
```

Par exemple, l'appel `construitTable(2,3)` doit renvoyer la table :

```
[ [0, 1, 2],  
  [3, 4, 5] ]
```

Que faut-il écrire à la place des points de suspension pour obtenir ce résultat ?

Réponses

- A `ligne.append(i + C*j)`
- B `ligne.append(L*i + j)`
- C `ligne.append(i + L*j)`
- D `ligne.append(C*i + j)`

Modèle CCYC : ©DNE

Nom de famille (naissance) :


(Suivi s'il y a lieu, du nom d'usage)

Prénom(s) :

N° candidat : N° d'inscription :

(Les numéros figurent sur la convocation.)

Né(e) le : / /



RÉPUBLIQUE FRANÇAISE

1.1

Thème C : traitement de données en tables

Question C.1

Laquelle de ces listes de chaînes de caractères est triée en ordre croissant ?

Réponses

- A ["112", "19", "27", "45", "8"]
- B ["8", "19", "27", "45", "112"]
- C ["8", "112", "19", "27", "45"]
- D ["19", "112", "27", "45", "8"]

Question C.2

Une table d'un fichier client contient le nom, le prénom et l'identifiant des clients sous la forme :

```
clients = [ ("Dupont", "Paul", 1),
            ("Durand", "Jacques", 2),
            ("Dutronc", "Jean", 3),
            ...]
```

En supposant que plusieurs clients se prénomment Jean, que vaut la liste x après l'exécution du code suivant ?

```
x = []
for i in range(len(clients)):
    if clients[i][1] == "Jean":
        x = clients[i]
```

Réponses

- A Une liste de tuples des noms, prénoms et numéros de tous les clients prénommés Jean
- B Une liste des numéros de tous les clients prénommés Jean
- C Un tuple avec le nom, prénom et numéro du premier client prénommé Jean
- D Un tuple avec le nom, prénom et numéro du dernier client prénommé Jean



Question C.3

Un centre de loisirs propose deux activités payantes : la piscine et le golf.

Le tableau P fournit la liste des entrées à la piscine pour chaque mois, le tableau G fournit la liste correspondant au golf.

```
P = [ ['janv', 3416], ['fev', 4025], ['mars', 4306], ['avr', 5507],  
      ['mai', 6100], ['juin', 1425], ['juil', 2335], ['aout', 2864],  
      ['sept', 1236], ['oct', 5015], ['nov', 2230], ['dec', 1776] ]
```

```
G = [ ['janv', 1429], ['fev', 2189], ['mars', 2065], ['avr', 2512],  
      ['mai', 3219], ['juin', 730], ['juil', 1144], ['aout', 1429],  
      ['sept', 638], ['oct', 2515], ['nov', 1126], ['dec', 899] ]
```

On souhaite construire une table T qui fournit une liste analogue où figure le total des entrées à la piscine et au golf. Par quoi faut-il remplacer la ligne en pointillés du code suivant ?

```
T = []  
for i in range(11):  
    .....
```

Réponses

- A T.append([P[i][0], P[i][1] + G[i][1]])
- B T.append([P[i][1], P[i][2] + G[i][2]])
- C T.append([P[i][0], P[i][0] + G[i][0]])
- D T.append([P[i][1], P[i][1] + G[i][1]])

Question C.4

On a extrait les deux premières lignes de différents fichiers.

Déterminer celui qui est un authentique fichier CSV :

Réponses

- A Nom, Pays, Temps
Camille Muffat, France, 241.45
- B Nom Pays Temps
Camille Muffat France 241.45
- C [
 { "Nom": "Camille Muffat", "Pays": "France", "Temps": 241.45},
- D [
 { Nom: "Camille Muffat", Pays: "France", Temps: 241.45},

Question C.5

Laquelle de ces listes de chaînes de caractères est triée en ordre croissant ?

Réponses

- A ['Chat', 'Chien', 'Cheval', 'Cochon']
- B ['Chat', 'Cheval', 'Chien', 'Cochon']
- C ['Chien', 'Cheval', 'Cochon', 'Chat']
- D ['Cochon', 'Chien', 'Cheval', 'Chat']

Modèle CCYC : ©DNE

Nom de famille (naissance) :


(Suivi s'il y a lieu, du nom d'usage)

Prénom(s) :

N° candidat : N° d'inscription :

(Les numéros figurent sur la convocation.)

Né(e) le : / /



1.1

Question C.6

On exécute le code suivant :

```
a = [5, 4, 3, 4, 7]
a.append(4)
```

Quelle est la valeur de la variable a à la fin de cette exécution ?

Réponses

- A 2
- B [4, 4]
- C [5, 4, 3, 4, 7, 4]
- D True



Thème D : interactions entre l'homme et la machine sur le Web

Question D.1

Un site internet utilise une requête HTTP avec la méthode POST pour transmettre les données d'un formulaire. Laquelle des affirmations suivantes est **incorrecte** ?

Réponses

- A les données envoyées ne sont pas visibles
- B il est possible de transmettre des données de type binaire
- C les données transmises sont cryptées
- D il n'y a pas de restriction de longueur pour les données transmises

Question D.2

Quelle méthode d'envoi des paramètres est-il préférable d'utiliser, pour un formulaire d'une page web, destiné à demander à l'utilisateur un mot de passe pour se connecter (le protocole utilisé est HTTPS) ?

Réponses

- A la méthode PASSWORD
- B la méthode CRYPT
- C la méthode GET
- D la méthode POST

Question D.3

Pour créer un lien vers la page d'accueil de Wikipédia, que devra-t-on écrire dans une page Web ?

Réponses

- A `wikipédia`
- B ``
- C `wikipédia`
- D `<link src="http://fr.wikipedia.org">wikipédia</link>`

Question D.4

Dans quels langages les balises `` et `<form>` sont-elles utilisées ?

Réponses

- A Python
- B HTML
- C Javascript
- D PHP

Modèle CCYC : ©DNE	
Nom de famille (naissance) : <i>(Suivi s'il y a lieu, du nom d'usage)</i>	<input type="text"/>
Prénom(s) :	<input type="text"/>
N° candidat :	<input type="text"/>
N° d'inscription :	<input type="text"/>
<i>(Les numéros figurent sur la convocation.)</i>	
Né(e) le :	<input type="text"/>



1.1

Question D.5

Lors de la consultation d'une page HTML contenant un bouton auquel est associée la fonction suivante, que se passe-t-il quand on clique sur ce bouton ?

```
function action(event) {
  this.style.color = "blue"
}
```

Réponses

- A le texte de la page passe en bleu
- B le texte du bouton passe en bleu
- C le texte du bouton est changé et affiche maintenant le mot "bleu"
- D le pointeur de la souris devient bleu quand il arrive sur le bouton

Question D.6

Un fichier HTML contient la ligne suivante.

```
<p>Coucou ! Ca va?</p>
```

Quelle commande CSS écrire pour que le texte apparaisse en rose sur fond jaune ?

Réponses

- A `p { couleur: rose ; fond: jaune;}`
- B `<p> { color = pink background-color = yellow}`
- C `<p> { color = pink ; background-color: yellow} </p>`
- D `p { color: pink ; background-color: yellow ;}`



Thème E : architectures matérielles et systèmes d'exploitation

Question E.1

Lequel de ces périphériques n'est pas un périphérique d'entrée ?

Réponses

- A le moniteur
- B le clavier
- C la souris
- D le scanner

Question E.2

Quelle est l'utilité de la commande `ping` dans un réseau informatique ?

Réponses

- A établir un réseau privé virtuel
- B tester si la connexion peut être établie avec une machine distante
- C obtenir la route suivie par un paquet dans le réseau
- D mesurer les performances d'une machine distante

Question E.3

Le répertoire personnel de l'utilisateur contient deux répertoires `tempo` et `sauve`.
On souhaite déplacer le fichier `bac.txt` du repertoire `tempo` vers le répertoire `sauve`.
Quelle commande permet de réaliser ce déplacement ?

Réponses

- A `mkdir ~/tempo/bac.txt ~/sauve`
- B `mkdir ~/sauve ~/tempo/bac.txt`
- C `mv ~/tempo/bac.txt ~/sauve`
- D `mv ~/sauve ~/tempo/bac.txt`

Question E.4

Quel protocole permet d'attribuer dynamiquement une adresse IP ?

Réponses

- A UDP
- B HTTP
- C DHCP
- D DNS

Question E.5

Sous UNIX, que va réaliser la ligne de commande `cat file.txt` ?

Réponses

- A rien du tout
- B l'affichage du contenu du fichier `file.txt` dans la console
- C la création d'un fichier `file.txt`
- D la suppression du fichier `file.txt`

Modèle CCYC : ©DNE

Nom de famille (naissance) :


(Suivi s'il y a lieu, du nom d'usage)

Prénom(s) :

N° candidat : N° d'inscription :

(Les numéros figurent sur la convocation.)

Né(e) le : / /

 Liberté • Égalité • Fraternité
RÉPUBLIQUE FRANÇAISE

1.1

Question E.6

Quelle commande du shell Linux permet de renommer un fichier ?

Réponses

- A cp
- B rm
- C mv
- D touch



Thème F : langages et programmation

Question F.1

On exécute le script suivant.

```
a,b = 10,3
if a < 10:
    a,b = a+2,b+a
```

Quelle est la valeur de b à la fin de son exécution ?

Réponses

- A 3
- B 12
- C 13
- D 15

Question F.2

On a défini une liste L de nombres entiers.

Quelle est la valeur de la variable m à la fin de l'exécution du script suivant ?

```
m = L[0]
for j in range(len(L)):
    if m < L[j]:
        m = L[j]
```

Réponses

- A la moyenne de la liste L
- B le minimum de la liste L
- C le maximum de la liste L
- D la longueur de la liste L

Question F.3

On exécute le script suivant :

```
a = 10
if a < 5:
    a = 20
elif a < 100:
    a = 500
elif a < 1000:
    a = 1
else:
    a = 0
```

Quelle est la valeur de la variable a à la fin de cette exécution ?

Réponses

- A 1
- B 10
- C 20
- D 500

Modèle CCYC : ©DNE

Nom de famille (naissance) :

(Suivi s'il y a lieu, du nom d'usage)

Prénom(s) :

N° candidat :

N° d'inscription :



Né(e) le :

(Les numéros figurent sur la convocation.)

1.1

Question F.4

Dans le programme JavaScript suivant, quelle est la notation qui délimite le bloc d'instructions exécuté à chaque passage dans la boucle `while` ?

```
i = 0
while (i < 10) {
    alert(i)
    i = i + 1
}
alert("Fin")
```

Réponses

- A le fait que les instructions soient encadrées entre `{` et `}`
- B le fait que les instructions soient indentées de 4 caractères comme en Python
- C le fait que les instructions suivent le mot clé `while`
- D le fait que les instructions suivent la parenthèse `)`

Question F.5

La fonction `ajoute(n, p)` codée ci-dessous en Python doit calculer la somme de tous les entiers compris entre `n` et `p` (`n` et `p` compris).

Par exemple, `ajoute(2, 4)` doit renvoyer $2+3+4 = 9$.

```
def ajoute(n,p):
    somme = 0
    for i in range(.....): # ligne à modifier
        somme = somme + i
    return somme
```

Quelle est la bonne écriture de la ligne marquée à modifier ?

Réponses

- A `for i in range(n,1,p):`
- B `for i in range(n,p):`
- C `for i in range(n,p+1):`
- D `for i in range(n-1,p):`

Question F.6

On définit :

```
def f(a,m):
    i = 1
    n = 0
    while n <= m:
        i = i * a
        n = n + 1
    return i
```

Quelle est la valeur renvoyée par l'appel `f(2, 4)` ?

Réponses

- A 8
- B 16
- C 32
- D 64



Thème G : algorithmique

Question G.1

Pour rendre la monnaie, il est possible d'utiliser un algorithme glouton.

Une seule des affirmations suivantes est vraie :

Réponses

- A Avec un algorithme glouton, on rend la monnaie en commençant toujours par la pièce ayant la plus grande valeur possible et en procédant ensuite par valeurs décroissantes.
- B Avec un algorithme glouton, on rend la monnaie en commençant toujours par la pièce de plus petite valeur afin de maximiser le nombre de pièces rendues.
- C Quel que soit le type de pièces dans un pays donné, un algorithme glouton donne toujours la monnaie de manière optimale.
- D Un algorithme glouton procède en testant toutes les combinaisons possibles de pièces afin de trouver le rendu optimal.

Question G.2

Qu'effectue-t-on en lançant la commande suivante dans un terminal Linux :

```
mv /etc/professeur/fichier.conf /home/nsi/fichier.conf
```

Réponses

- A un déplacement de fichier
- B une copie de fichier
- C un renommage de fichier
- D un changement de répertoire

Question G.3

Lors de l'exécution du code suivant, combien de fois l'opération $a = 2*a$ sera-t-elle effectuée ?

```
a = 1
cpt = 1
while cpt < 8:
    a = 2*a
    cpt = cpt+1
```

Réponses

- A 0
- B 1
- C 7
- D 8

