

Modèle CCYC : ©DNE

Nom de famille (naissance) :

(Suivi s'il y a lieu, du nom d'usage)

Prénom(s) :

N° candidat : N° d'inscription :

(Les numéros figurent sur la convocation.)

Né(e) le : / /



1.1

ÉVALUATION COMMUNE

CLASSE : Première

VOIE : Générale Technologique Toutes voies (LV)

ENSEIGNEMENT : spécialité Numérique et Sciences Informatiques (NSI)

DURÉE DE L'ÉPREUVE : 02 h 00

Niveaux visés (LV) : LVA LVB

Axes de programme :

CALCULATRICE AUTORISÉE : Oui Non

DICTIONNAIRE AUTORISÉ : Oui Non

Ce sujet contient des parties à rendre par le candidat avec sa copie. De ce fait, il ne peut être dupliqué et doit être imprimé pour chaque candidat afin d'assurer ensuite sa bonne numérisation.

Ce sujet intègre des éléments en couleur. S'il est choisi par l'équipe pédagogique, il est nécessaire que chaque élève dispose d'une impression en couleur.

Ce sujet contient des pièces jointes de type audio ou vidéo qu'il faudra télécharger et jouer le jour de l'épreuve.

Nombre total de pages : 21

L'épreuve consiste en 42 questions, rangées en 7 thèmes.

Pour chaque question, le candidat gagne 3 points s'il choisit la bonne réponse, perd 1 point s'il choisit une réponse fausse. S'il ne répond pas ou choisit plusieurs réponses, il ne gagne ni ne perd aucun point.

Le total sur chacun des 7 thèmes est ramené à 0 s'il est négatif.

La note finale s'obtient en divisant le total des points par 6,3 et en arrondissant à l'entier supérieur.

Le candidat indique ses réponses aux questions en pages 2 et 3.

Seules les pages 1 à 4 sont rendues par le candidat à la fin de l'épreuve, pour être numérisées.

Les questions figurent sur les pages suivantes.



Thème A : types de base

Réponse à la question 1	A <input type="checkbox"/>	B <input type="checkbox"/>	C <input type="checkbox"/>	D <input type="checkbox"/>
Réponse à la question 2	A <input type="checkbox"/>	B <input type="checkbox"/>	C <input type="checkbox"/>	D <input type="checkbox"/>
Réponse à la question 3	A <input type="checkbox"/>	B <input type="checkbox"/>	C <input type="checkbox"/>	D <input type="checkbox"/>
Réponse à la question 4	A <input type="checkbox"/>	B <input type="checkbox"/>	C <input type="checkbox"/>	D <input type="checkbox"/>
Réponse à la question 5	A <input type="checkbox"/>	B <input type="checkbox"/>	C <input type="checkbox"/>	D <input type="checkbox"/>
Réponse à la question 6	A <input type="checkbox"/>	B <input type="checkbox"/>	C <input type="checkbox"/>	D <input type="checkbox"/>

Thème B : types construits

Réponse à la question 1	A <input type="checkbox"/>	B <input type="checkbox"/>	C <input type="checkbox"/>	D <input type="checkbox"/>
Réponse à la question 2	A <input type="checkbox"/>	B <input type="checkbox"/>	C <input type="checkbox"/>	D <input type="checkbox"/>
Réponse à la question 3	A <input type="checkbox"/>	B <input type="checkbox"/>	C <input type="checkbox"/>	D <input type="checkbox"/>
Réponse à la question 4	A <input type="checkbox"/>	B <input type="checkbox"/>	C <input type="checkbox"/>	D <input type="checkbox"/>
Réponse à la question 5	A <input type="checkbox"/>	B <input type="checkbox"/>	C <input type="checkbox"/>	D <input type="checkbox"/>
Réponse à la question 6	A <input type="checkbox"/>	B <input type="checkbox"/>	C <input type="checkbox"/>	D <input type="checkbox"/>


Thème C : traitement de données en tables

Réponse à la question 1	A <input type="checkbox"/>	B <input type="checkbox"/>	C <input type="checkbox"/>	D <input type="checkbox"/>
Réponse à la question 2	A <input type="checkbox"/>	B <input type="checkbox"/>	C <input type="checkbox"/>	D <input type="checkbox"/>
Réponse à la question 3	A <input type="checkbox"/>	B <input type="checkbox"/>	C <input type="checkbox"/>	D <input type="checkbox"/>
Réponse à la question 4	A <input type="checkbox"/>	B <input type="checkbox"/>	C <input type="checkbox"/>	D <input type="checkbox"/>
Réponse à la question 5	A <input type="checkbox"/>	B <input type="checkbox"/>	C <input type="checkbox"/>	D <input type="checkbox"/>
Réponse à la question 6	A <input type="checkbox"/>	B <input type="checkbox"/>	C <input type="checkbox"/>	D <input type="checkbox"/>

Thème D : interactions entre l'homme et la machine sur le Web

Réponse à la question 1	A <input type="checkbox"/>	B <input type="checkbox"/>	C <input type="checkbox"/>	D <input type="checkbox"/>
Réponse à la question 2	A <input type="checkbox"/>	B <input type="checkbox"/>	C <input type="checkbox"/>	D <input type="checkbox"/>
Réponse à la question 3	A <input type="checkbox"/>	B <input type="checkbox"/>	C <input type="checkbox"/>	D <input type="checkbox"/>
Réponse à la question 4	A <input type="checkbox"/>	B <input type="checkbox"/>	C <input type="checkbox"/>	D <input type="checkbox"/>
Réponse à la question 5	A <input type="checkbox"/>	B <input type="checkbox"/>	C <input type="checkbox"/>	D <input type="checkbox"/>
Réponse à la question 6	A <input type="checkbox"/>	B <input type="checkbox"/>	C <input type="checkbox"/>	D <input type="checkbox"/>



Modèle CCYC : ©DNE	
Nom de famille (naissance) : <small>(Suivi s'il y a lieu, du nom d'usage)</small>	
Prénom(s) :	
N° candidat :	
	N° d'inscription :
	<small>(Les numéros figurent sur la convocation.)</small>
Né(e) le :	

1.1

Thème A : types de base

Question A.1

Soient P et Q deux formules logiques telles que P est vraie et Q est fausse.
Quelle est la valeur de l'expression $(P \text{ ET } Q) \text{ OU } (\text{NON}(P) \text{ OU } Q)$?

Réponses

- A vraie
- B fausse
- C ni vraie, ni fausse
- D vraie et fausse en même temps

Question A.2

Un seul des réels suivants (écrits en base 10) n'a pas une écriture finie en base 2. Lequel ?

Réponses

- A 1,25
- B 1,5
- C 1,6
- D 1,75

Question A.3

Combien de bits faut-il au minimum pour coder le nombre décimal 4085 ?

Réponses

- A 4
- B 12
- C 2042
- D 2043

Question A.4

Quel est le plus grand entier positif que l'on peut coder sur un mot de 16 bits ?

Réponses

- A $2^{15} - 1 = 32767$
- B $2^{15} = 32768$
- C $2^{16} - 1 = 65535$
- D $2^{16} = 65536$

Question A.5

Qu'est-ce qui permet de traduire un nom d'hôte en adresse IP ?

Réponses

- A un serveur DNS
- B un serveur DHCP
- C un pare-feu
- D un hub



Question A.6

Quel est le nombre qui s'écrit 2020 en base 3 ?

Réponses

- A 30
- B 60
- C 90
- D 180

Modèle CCYC : ©DNE

Nom de famille (naissance) :


(Suivi s'il y a lieu, du nom d'usage)

Prénom(s) :

N° candidat : N° d'inscription :

(Les numéros figurent sur la convocation.)

Né(e) le : / /



RÉPUBLIQUE FRANÇAISE

1.1

Thème B : types construits

Question B.1

Quel est le type de la variable `billes` définie par :

```
billes = {'vert': 6, 'rouge': 15, 'bleu': 11, 'jaune': 2, 'orange': 17 }
```

Réponses

- A c'est une séquence
- B c'est une liste
- C c'est une liste de listes
- D c'est un dictionnaire

Question B.2

Quelle instruction permet d'affecter la liste `[0, 1, 4, 9, 16]` à la variable `tableau` ?

Réponses

- A `tableau = [i**2 for i in range(4)]`
- B `tableau = [i**2 for i in range(5)]`
- C `tableau = [i**2 for i in range(16)]`
- D `tableau = [i**2 for i in range(17)]`

Question B.3

On définit ainsi une liste `M` :

```
M = [['A', 'B', 'C', 'D'], ['E', 'F', 'G', 'H'], ['I', 'J', 'K', 'L']]
```

Quelle expression vaut la chaîne de caractères `'H'` ?

Réponses

- A `M[1][3]`
- B `M[3][1]`
- C `M(7)`
- D `M(8)`



Question B.4

On dispose d'une table `tab` constituée d'une liste de trois sous-listes contenant chacune quatre caractères.

```
tab = [ ['A', 'B', 'C', 'D'],  
        ['E', 'F', 'G', 'H'],  
        ['I', 'J', 'K', 'L'] ]
```

Parmi les propositions suivantes, laquelle permet de convertir cette table en une liste `L` contenant dans l'ordre, ligne par ligne, les 12 caractères de `tab` ?

à la fin, on a l'égalité :

```
L=[ 'A', 'B', 'C', 'D', 'E', 'F', 'G', 'H', 'I', 'J', 'K', 'L' ]
```

Réponses

- A

```
L = []  
for i in range(3):  
    for j in range(4):  
        L.append(tab[i][j])
```
- B

```
L = []  
for i in range(4):  
    for j in range(3):  
        L.append(tab[i][j])
```
- C

```
L = []  
for i in range(3):  
    L.append(tab[i])
```
- D

```
L = []  
for i in range(4):  
    L.append(tab[i])
```


Question B.5

On définit ainsi le tableau `t = [[1,5,7], [8,4,2], [3,9,6]]`

Quel jeu d'indices permet d'obtenir l'élément "9" de ce tableau ?

Réponses

- A `t[3][2]`
- B `t[2][3]`
- C `t[1][2]`
- D `t[2][1]`

Modèle CCYC : ©DNE		
Nom de famille (naissance) : (Suivi s'il y a lieu, du nom d'usage)	<input type="text"/>	
Prénom(s) :	<input type="text"/>	
N° candidat :	<input type="text"/>	N° d'inscription : <input type="text"/>
 Liberté • Égalité • Fraternité RÉPUBLIQUE FRANÇAISE	(Les numéros figurent sur la convocation.) Né(e) le : <input type="text"/>	
		1.1

Question B.6

On a défini

dico = { 'a': (1,2,3), 'b': (4,5,6) }

Quelle est la valeur de l'expression dico['a']^[1]?

Réponses

- A 1
- B 2
- C (1,2,3)
- D cette expression est incorrecte, l'évaluer déclenche une erreur



Thème C : traitement de données en tables

Question C.1

Quelle expression Python permet d'accéder au numéro de téléphone de Tournesol, sachant que le répertoire a été défini par l'affectation suivante :

```
repertoire = [{'nom': 'Dupont', 'tel': '5234'},  
              {'nom': 'Tournesol', 'tel': '5248'},  
              {'nom': 'Dupond',  
              'tel': '3452'}]
```

Réponses

- A repertoire['Tournesol']
- B repertoire['tel'][1]
- C repertoire[1]['tel']
- D repertoire['Tournesol']['tel']

Question C.2

Qu'est-ce qu'un fichier CSV ?

Réponses

- A une librairie Python permettant l'affichage des images
- B un utilitaire de traitement d'image
- C un format d'image
- D un format de données

Question C.3

Laquelle de ces listes de chaînes de caractères est triée en ordre croissant ?

Réponses

- A ["112", "19", "27", "45", "8"]
- B ["8", "19", "27", "45", "112"]
- C ["8", "112", "19", "27", "45"]
- D ["19", "112", "27", "45", "8"]

Modèle CCYC : ©DNE

Nom de famille (naissance) :


(Suivi s'il y a lieu, du nom d'usage)

Prénom(s) :

N° candidat : N° d'inscription :

(Les numéros figurent sur la convocation.)

Né(e) le : / /



RÉPUBLIQUE FRANÇAISE

1.1

Question C.4

On considère l'extraction suivante d'une base de données des départements français. Cette extraction a ensuite été sauvegardée dans un fichier texte.

```
"1","01","Ain","AIN","ain","A500"
"2","02","Aisne","AISNE","aisne","A250"
"3","03","Allier","ALLIER","allier","A460"
"4","04","Alpes-de-Haute-Provence","ALPES-DE-HAUTE-PROVENCE","alpes-de-
haute-provence","A412316152"
"5","05","Hautes-Alpes","HAUTES-ALPES","hautes-alpes","H32412"
```

On considère le code suivant :

```
import csv
with open('departements.csv', newline='') as monFichier:
    lesLignes = csv.reader(monFichier)
    for uneLigne in lesLignes:
        print(uneLigne[3])
```

Que va produire l'exécution de ce code ?

Réponses

- A L'affichage de la troisième colonne à savoir le nom du département avec une majuscule initiale
- B L'affichage de tout le contenu du fichier
- C L'affichage du nombre total de départements figurant dans le fichier
- D L'affichage de la quatrième colonne, à savoir le nom du département tout en majuscules

Question C.5

Un centre de loisirs propose deux activités payantes : la piscine et le golf.

Le tableau P fournit la liste des entrées à la piscine pour chaque mois, le tableau G fournit la liste correspondant au golf.

```
P = [ ['janv',3416], ['fev',4025], ['mars',4306], ['avr',5507],
      ['mai',6100], ['juin',1425], ['juil',2335], ['aout',2864],
      ['sept',1236], ['oct',5015], ['nov',2230], ['dec',1776] ]

G = [ ['janv',1429], ['fev',2189], ['mars',2065], ['avr',2512],
      ['mai',3219], ['juin',730], ['juil',1144], ['aout',1429],
      ['sept',638], ['oct',2515], ['nov',1126], ['dec',899] ]
```

On souhaite construire une table T qui fournit une liste analogue où figure le total des entrées à la piscine et au golf. Par quoi faut-il remplacer la ligne en pointillés du code suivant ?

```
T = []
for i in range(11):
    .....
```

Réponses

- A T.append([P[i][0], P[i][1] + G[i][1]])
- B T.append([P[i][1], P[i][2] + G[i][2]])
- C T.append([P[i][0], P[i][0] + G[i][0]])
- D T.append([P[i][1], P[i][1] + G[i][1]])



Question C.6

Soit le tableau défini de la manière suivante : `tableau = [[1, 3, 4], [2, 7, 8], [9, 10, 6], [12, 11, 5]]`

On souhaite accéder à la valeur 12, on écrit pour cela :

Réponses

- A `tableau[4][1]`
- B `tableau[1][4]`
- C `tableau[3][0]`
- D `tableau[0][3]`

Modèle CCYC : ©DNE

Nom de famille (naissance) :

(Suivi s'il y a lieu, du nom d'usage)

Prénom(s) :

N° candidat : N° d'inscription :

(Les numéros figurent sur la convocation.)

Né(e) le : / /



RÉPUBLIQUE FRANÇAISE

1.1

Thème D : interactions entre l'homme et la machine sur le Web

Question D.1

Que peut-on comprendre en lisant l'URL :

https://www.myfalselink.com/results?search_query=NSI?

Réponses

- A Le protocole utilisé pour naviguer est sécurisé
- B Une recherche sur le mot NSI a été faite mais il n'y a pas de réponse
- C Ce site est situé dans un pays anglophone
- D Le lien ne fonctionnera pas car le caractère '?' n'est pas autorisé dans une URL

Question D.2

Voici un extrait d'une page HTML :

```
<script>
  function sommeNombres(formulaire) {
    var somme = formulaire.n1.value + formulaire.n2.value;
    console.log(somme);
  }
</script>

<form>
  Nombre 1 : <input name="n1" value="30"> <br>
  Nombre 2 : <input name="n2" value="10"> <br>
  <input type="button" value="Somme" onclick="sommeNombres(this.form)">
</form>
```

Quand l'utilisateur clique sur le bouton Somme, le calcul de la fonction sommeNombres() se fait :

Réponses

- A uniquement dans le navigateur
- B uniquement sur le serveur qui héberge la page
- C à la fois dans le navigateur et sur le serveur
- D si le calcul est complexe, le navigateur demande au serveur de faire le calcul

Question D.3

Un site internet utilise une requête HTTP avec la méthode POST pour transmettre les données d'un formulaire. Laquelle des affirmations suivantes est **incorrecte** ?

Réponses

- A les données envoyées ne sont pas visibles
- B il est possible de transmettre des données de type binaire
- C les données transmises sont cryptées
- D il n'y a pas de restriction de longueur pour les données transmises



Question D.4

Quelle est la machine qui exécute un programme JavaScript inclus dans une page HTML ?

Réponses

- A le serveur WEB qui contient la page HTML
- B la machine de l'utilisateur qui consulte la page HTML
- C un serveur du réseau
- D un routeur du réseau

Question D.5

Un internaute clique sur un lien qui envoie la requête HTTP suivante à un serveur :

`http://jaime.laneige.com/ma_planche/traitement.php?nom=Snow&prenom=Jon`

Quelle est l'adresse du serveur ?

Réponses

- A `jaime.laneige`
- B `jaime.laneige.com`
- C `jaime.laneige.com/ma_planche`
- D `jaime.laneige.com/ma_planche/traitement.php`

Question D.6

Un internaute clique sur un lien qui envoie la requête HTTP suivante à un serveur :

`http://jaime.laneige.com/ma_planche/traitement.php?nom=Snow&prenom=Jon`

Que demande cette requête au serveur ?

Réponses

- A de renvoyer le fichier `traitement.php` en identifiant `nom` et `prénom` à `Snow` et `Jon`
- B d'exécuter le fichier `traitement.php` en identifiant `nom` et `prénom` à `Snow` et `Jon`
- C d'indiquer si `Jon Snow` a bien pris son traitement
- D de renvoyer le fichier `traitement.php` en affichant `prénom` et `nom` : `Jon Snow`

Modèle CCYC : ©DNE

Nom de famille (naissance) :

(Suivi s'il y a lieu, du nom d'usage)

Prénom(s) :

N° candidat : N° d'inscription :

(Les numéros figurent sur la convocation.)

Né(e) le : / /



1.1

Thème E : architectures matérielles et systèmes d'exploitation

Question E.1

L'adresse IP du site `www.education.gouv.fr` est `185.75.143.24`.

Quel dispositif permet d'associer l'adresse IP et l'URL `www.education.gouv.fr` ?

Réponses

- A un routeur
- B un serveur DNS
- C un serveur de temps
- D un serveur Web

Question E.2

Dans la console Linux, quelle commande faut-il exécuter pour créer un dossier nommé `travail` dans le dossier courant ?

Réponses

- A `pwd travail`
- B `cd travail`
- C `mkdir travail`
- D `dir /home/martin/travail`

Question E.3

Le shell Linux renvoie ce résultat à la commande `ls -al` :

```
lrwxr--r-- 2 toto toto 807 juin 26 14:06 eclipse
drwxr-xr-x 2 toto toto 4096 juin 26 15:00 Doc_1
-rw-r-xr-x 2 toto toto 4096 juin 26 14:06 QCM
-rwxr-xr-x 2 toto toto 4096 juin 26 14:06 Doc_Travail
```

Quel est le nom du fichier du répertoire courant, de taille 4096 octets, exécutable par son propriétaire ?

Réponses

- A `eclipse`
- B `Doc_1`
- C `QCM`
- D `Doc_Travail`

Question E.4

Sous Unix, que fait la commande suivante :

```
ls -a /home/pi >> toto.txt
```

Réponses

- A elle liste uniquement les répertoires cachés du répertoire `/home/pi`
- B elle liste tous les fichiers du répertoire `/home/pi` et enregistre le résultat dans un fichier `toto.txt`
- C elle liste tous les fichiers des répertoires de `/home/pi` et de `toto.txt`
- D elle liste tous les fichiers du répertoire courant et enregistre le résultat dans un fichier `/home/pi/toto.txt`



Question E.5

En informatique, que signifie l'acronyme ROM ?

Réponses

- A Rewrite Only Memory
- B Reset Only Memory
- C Read Only Memory
- D Recall Only Memory

Question E.6

Quel est le principe de l'encapsulation des données dans un réseau informatique ?

Réponses

- A Cacher les données afin que l'on ne puisse pas les lire
- B Mettre les données les unes à la suite des autres
- C Chiffrer les données afin que l'on ne puisse pas les lire
- D Inclure les données d'un protocole dans un autre protocole

Modèle CCYC : ©DNE

Nom de famille (naissance) :

(Suivi s'il y a lieu, du nom d'usage)

Prénom(s) :

N° candidat : N° d'inscription :

(Les numéros figurent sur la convocation.)

Né(e) le : / /



RÉPUBLIQUE FRANÇAISE

1.1

Thème F : langages et programmation

Question F.1

Avec la définition de fonction `capital_double` suivante, que peut-on toujours affirmer à propos du résultat `n` retourné par la fonction ?

```
def capital_double (capital, interet):
    montant = capital
    n = 0
    while montant <= 2 * capital:
        montant = montant + interet
        n = n + 1
    return n
```

Réponses

- A `n == capital / interet`
- B `capital * n * interet > 2 * capital`
- C `capital + n * interet > 2 * capital`
- D `n == 2 * capital / interet`

Question F.2

La fonction `maxi` ci-dessous a pour but de renvoyer la valeur maximale présente dans la liste qui lui est passée en argument.

```
def maxi(L):
    dernier_indice = len(L) - 1
    valeur_max = L[0]
    for i in range(1,dernier_indice):
        if L[i] > valeur_max:
            valeur_max = liste[i]
    return valeur_max
```

Cette fonction a été mal programmée. On souhaite réaliser un test pour le démontrer.

Parmi les propositions suivantes, laquelle mettra la fonction `maxi` en défaut ?

Réponses

- A `maxi([1, 2, 3, 4])`
- B `maxi([4, 3, 2, 1])`
- C `maxi([1, 3, 3, 2])`
- D `maxi([1, 1, 1, 1])`



Question F.3

Dans le programme JavaScript suivant, quelle est la notation qui délimite le bloc d'instructions exécuté à chaque passage dans la boucle `while` ?

```
i = 0
while (i < 10) {
    alert(i)
    i = i + 1
}
alert("Fin")
```

Réponses

- A le fait que les instructions soient encadrées entre { et }
- B le fait que les instructions soient indentées de 4 caractères comme en Python
- C le fait que les instructions suivent le mot clé `while`
- D le fait que les instructions suivent la parenthèse)

Question F.4

La documentation de la fonction `floor` de la bibliothèque `math` est :

```
floor(x)
Return the floor of x as an Integral. This is the largest integer <= x.
```

Que vaut `floor(-2.2)` ?

Réponses

- A -2
- B -3
- C on obtient une erreur, car -2.2 n'est pas un entier
- D 2.2

Question F.5

On considère la fonction ci-dessous :

```
def maFonction(c):
    if c <= 10:
        p = 12
    if c <= 18:
        p = 15
    if c <= 40:
        p = 19
    else:
        p = 20
    return p
```

Que renvoie `maFonction(18)` ?

Réponses

- A 12
- B 15
- C 19
- D 20

Modèle CCYC : ©DNE

Nom de famille (naissance) :
(Suivi s'il y a lieu, du nom d'usage)

--	--	--	--	--	--	--	--	--	--	--	--	--	--	--	--	--	--	--	--

Prénom(s) :

--	--	--	--	--	--	--	--	--	--	--	--	--	--	--	--	--	--	--	--

N° candidat :

--	--	--	--	--	--	--	--	--	--	--	--	--	--

N° d'inscription :

--	--	--



Né(e) le :

(Les numéros figurent sur la convocation.)

			/			/						
--	--	--	---	--	--	---	--	--	--	--	--	--

1.1

Question F.6

Quelle est la valeur de la variable x à la fin de l'exécution du script suivant :

```
def f(x):  
    x = x + 1  
    return x + 1
```

```
x = 0  
f(x+1)
```

Réponses

- A 0
- B 1
- C 2
- D 3



Thème G : algorithmique

Question G.1

Combien d'échanges effectue la fonction Python suivante pour trier un tableau de 10 éléments au pire des cas ?

```
def tri (tab):  
    for i in range (1, len(tab)):  
        for j in range (len(tab) - i):  
            if tab[j]>tab[j+1]:  
                tab[j],tab[j+1] = tab[j+1], tab[j]
```

Réponses

- A 10
- B 45
- C 55
- D 100

Question G.2

Que renvoie la fonction suivante quand on l'appelle avec un nombre entier et une liste d'entiers ?

```
def mystere(n,L):  
    for x in L:  
        if n == x:  
            return True  
    return False
```

Réponses

- A une valeur booléenne indiquant si le nombre n est présent au moins une fois dans la liste L
- B une valeur booléenne indiquant si le nombre n est présent plusieurs fois dans la liste L
- C une valeur booléenne indiquant si le nombre n est le plus grand de la liste L
- D une valeur booléenne indiquant si le nombre n est le plus petit de la liste L

Question G.3

La fonction ci-dessous compte le nombre d'occurrences d'un élément x dans une liste L :

```
def compteur(L,x):  
    n = 0  
    for item in L:  
        if item == x:  
            n = n + 1  
    return n
```

Comment évolue le temps d'exécution d'un appel de cette fonction si on prend comme argument une liste deux fois plus grande ?

Réponses

- A c'est le même temps d'exécution
- B le temps d'exécution est à peu près doublé
- C le temps d'exécution est à peu près quadruplé
- D impossible de le prévoir, cela dépend aussi de l'argument x

Question G.4

Quelle est la valeur de c à la fin de l'exécution du code suivant :

Modèle CCYC : ©DNE

Nom de famille (naissance) :

(Suivi s'il y a lieu, du nom d'usage)

--	--	--	--	--	--	--	--	--	--	--	--	--	--	--	--	--	--	--	--	--	--	--	--	--	--	--

Prénom(s) :

--	--	--	--	--	--	--	--	--	--	--	--	--	--	--	--	--	--	--	--	--	--	--	--	--	--	--

N° candidat :

--	--	--	--	--	--	--	--	--	--

N° d'inscription :

--	--	--



(Les numéros figurent sur la convocation.)

Né(e) le :

		/			/				
--	--	---	--	--	---	--	--	--	--

1.1

```
L = [1,2,3,4,1,2,3,4,0,2]
```

```
c = 0
```

```
for k in L:
```

```
  if k == L[1]:
```

```
    c = c+1
```

Réponses

- A 0
- B 2
- C 3
- D 10

Question G.5

Quelle est la complexité du tri par sélection ?

Réponses

- A inconnue
- B linéaire
- C quadratique
- D exponentielle

Question G.6

On exécute le code suivant :

```
tab = [1, 4, 3, 8, 2]
```

```
S = 0
```

```
for i in range(len(tab)):
```

```
  S = S + tab[i]
```

Que vaut la variable S à la fin de l'exécution ?

Réponses

- A 1
- B 8
- C 18
- D 3.6